



**PREFEITURA MUNICIPAL DE ITAPERUNA
SECRETARIA MUNICIPAL DE EDUCAÇÃO
GESTÃO PEDAGÓGICA**

ESCOLA: _____
ALUNO: _____

**EDUCAÇÃO DE JOVENS E ADULTOS – EJA II
FASE IX – V MÓDULO DE APRENDIZAGEM IMPRESSA
01 a 30 JUNHO e 01 a 12 de JULHO de 2021**

FONTE DE INSPIRAÇÃO

DESDE O JARDIM DA CRIAÇÃO
HÁ UMA CONEXÃO
ENTRE O CRIADOR
A NATUREZA
O HOMEM E SEU CORAÇÃO
NOMES FORAM DADOS
ERA TUDO UMA PERFEIÇÃO
OLHE A SEU REDOR
OUÇA UMA ÁRVORE CANTAR
UM AVE BAILAR
UM RIO CORRER
UMA FLOR DESABROCHAR
UM NINHO AQUECER
O CÉU AZUL ENCANTAR
A NUVEM SURGIR
A CHUVA CAIR
A TERRA MOLHAR
O CHEIRO SUBIR
A SEMENTE GEMINAR
A PLANTA CRESCER
E FLORESCER.
CUIDE POR INTEIRO.



EIXO NORTEADOR: MEIO AMBIENTE: CUIDO DELE POR INTEIRO!

➔ I SEMANA (01/02/04/07-11 de junho de 2021)

LÍNGUA PORTUGUESA

1-TEXTO - O MEIO AMBIENTE EM PRIMEIRO LUGAR

Gileno Junior

Em um pequeno vilarejo, havia um jovem aventureiro que se chamava Pedro. Ele era um rapaz esperto que adorava o meio ambiente. Passava a maior parte do dia na floresta, subindo em árvores brincando com os animais. Pedro não tinha medo de nada, de nenhum animal e adorava nadar em um rio que ficava perto de sua casa. Certo dia, Pedro estava andando pela floresta, quando viu um movimento estranho e depois um tiro e um grito de um animal. Muito curioso ele foi lá olhar. Quando chegou ao local do tiro, viu muitos homens, todos armados e com motosserras cortando as árvores, matando e capturando animais. Pedro chegou à frente deles e um deles disse: ___ Não atirem! Ele será nosso refém, pois a polícia está atrás de nós. No tempo em que ele estava conversando, Pedro subiu em uma árvore e se escondeu. A polícia chegou e prendeu o bando. Pedro, um jovem aventureiro que amava o meio ambiente, arriscou sua vida por ele.

Adaptado de: http://colegioma_anaim77blogspot.com.br/012/06/contos:html

1. Na frase “Em um pequeno vilarejo...” há um adjunto adverbial:

(A) de tempo (B) de lugar (C) de modo (D) de intensidade

2. “Certo dia, Pedro estava andando pela floresta...” Qual é a circunstância expressa pelo adjunto adverbial grifado? _____

PRODUÇÃO TEXTUAL

1. O que você achou da atitude de Pedro? Por quê? E você, o que tem feito ou o que acha que deve ser feito para preservar o meio ambiente? Agora, visualize mentalmente o lugar onde é a casa de Pedro e desenhe esse ambiente. Capriche!

MATEMÁTICA

1. Uma gota de água tem cerca de 3000 000 000 000 000 000 000 de átomos. O número apresentado na forma de notação científica é:

(A) $3 \cdot 10^5$ (B) $3 \cdot 10^{21}$ (C) $3 \cdot 10^{11}$ (D) $3 \cdot 10^2$

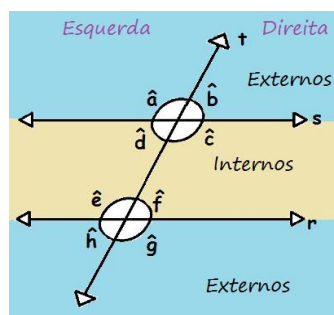
2. A massa do Sol, em toneladas, é 1,989 .1000 000 000 000 000 000 000 000 000.

O número apresentado na forma de notação científica é:

(A) $1,989 \cdot 10^4$ (B) $1,989 \cdot 10^{27}$ (C) $1,989 \cdot 10^{12}$ (D) $1,989 \cdot 10^2$

RACIOCÍNIO LÓGICO

1. Na figura a seguir, a reta t é transversal às retas paralelas r e s .



Quais são os ângulos internos?

- (A) a,b,d,e (B) c,d,e,f (C) a,b,f,g (D) e,f,g,h

HISTÓRIA

1. A capoeira é uma herança cultural deixada pelos:

- (A) Negros (B) Portugueses (C) Espanhóis (D) Índios

2. Qual é a manifestação afro-brasileira que mistura esporte, dança, música e luta?

- (A) Capoeira (B) Futebol (C) Judô (D) Dança Baiana

GEOGRAFIA

1. Na atualidade, a globalização econômica tem gerado, dentre outros, a:

- (A) formação de diversos blocos econômicos em todo o mundo.
(B) desconcentração espacial da pesquisa e do desenvolvimento tecnológico.
(C) diminuição dos fluxos de capitais nos mercados financeiros internacionais.
(D) redução dos monopólios que trazem prejuízos ao sistema capitalista.

2. Analise a charge. Ela ilustra uma característica importante do mundo globalizado, que se refere:



(A) ao isolamento do Brasil em relação a uma eventual crise internacional.

(B) à interdependência econômica entre países com fortes relações comerciais.

(C) aos benefícios econômicos adquiridos pelo Brasil durante a crise americana.

(D) à distância política e econômica que separa os EUA e o Brasil.

CIÊNCIAS

1. A dengue é um grave problema de saúde pública em nosso país. Seu agente etiológico é:

- (A) por uma bactéria. (B) por um protozoário. (C) um vírus.
(D) um mosquito. (E) um verme.

2. A dengue é uma doença comum em épocas quentes e chuvosas do ano, portanto, é importante que algumas medidas sejam tomadas durante esse período. Todas as alternativas abaixo indicam medidas que ajudam a barrar a reprodução do mosquito transmissor, exceto:

- (A) Limpar sempre as caixas d'água.
(B) Manter sempre as caixas d'água cobertas.
(C) Trocar a água dos vasos de planta.
(D) Secar os pratos de vasos de planta.
(E) Colocar telas nas janelas.

LÍNGUA INGLESA

Where are you from?

A _ Are you Brazilian?

B _ No, I am not.

A _ Where are you from?

B _ I am from Mexico. I am Mexican. In Mexico we wear big hats.

A _ Are you American?

C _ Yes, I am. I am from New York, a big city in the United States.

A _ Where are they from?

D _ They are from Rome, the capital of Italy. They like macaroni very much. And wine, too.

A _ Where are you from?

D _ I am from Rio, a large city in Brazil. Brazil is the country of gentle People, the land of Carnival!

Compact Dynamic English- page 42-45

1. Assinale a alternativa correta:

❖ New York é:

- a.() uma grande cidade dos Estados Unidos.
b.() Uma pequena cidade dos Estados Unidos.

❖ No México:

- a.() As pessoas usam grandes chapéus .
b.() As pessoas usam grandes lenços na cabeça.

❖ Roma:

- a.() é a capital da França. b.() é a capital da Itália.

ARTE

1. A música (do grego *μουσική τέχνη* - *musiké téchne*, a arte das musas) é uma forma de arte que se constitui na combinação de vários sons e ritmos, seguindo uma pré-organização ao longo do tempo.

Cite o nome de uma música de sua preferência.

ENSINO RELIGIOSO


1. O que é coronavírus? (COVID-19) Coronavírus é uma família de vírus que causam infecções respiratórias. O novo agente do coronavírus foi descoberto em 31/12/19 após casos registrados na China. Provoca a doença chamada de coronavírus (COVID-19). Os primeiros coronavírus humanos foram isolados pela primeira vez em 1937. No entanto, foi em 1965 que o vírus foi descrito como coronavírus, em decorrência do perfil na microscopia, parecendo uma coroa. A maioria das pessoas se infecta com os coronavírus comuns ao longo da vida, sendo as crianças pequenas mais propensas a se infectar com o tipo mais comum do vírus. Os coronavírus mais comuns que infectam humanos são o alpha coronavírus 229E e NL63 e beta coronavírus OC43, HKU1...

O que quer dizer Coronavírus?

EDUCAÇÃO FÍSICA

1. No Brasil, a dança de salão foi introduzida em 1914, com a suíça Louise Poças Leitão (popularmente Madame Poças Leitão). Fugindo da primeira guerra mundial veio para São Paulo, ensinando etiqueta e dança de salão para a sociedade paulistana. Envolve postura e regras da etiqueta com características culturais ou não.

- Faça uma pesquisa sobre um estilo de dança de salão de sua preferência e descreva sobre sua origem e características:

 **II SEMANA (14 a 18 de junho de 2021)**

LÍNGUA PORTUGUESA

1. TEXTO - LIXO

Luís Fernando Veríssimo

Encontram-se na área de serviço. Cada um com seu pacote de lixo. É a primeira vez que se falam.

- Bom dia
 - Bom dia
 - A senhora é do 610
 - E o senhor do 612
 - Eu ainda não o conhecia pessoalmente
 - Pois é...
 - Desculpe a minha indiscrição, mas tenho visto o seu lixo...
 - O meu o quê?
 - O seu lixo
 - Ah...
 - Reparei que nunca é muito. Sua família deve ser pequena...
 - Na verdade sou só eu...
 - Mmmm. Notei que o senhor usa muita comida em lata.
 - É que tenho que fazer a minha própria comida. E como não sei cozinhar...
 - Entendo.
 - A senhora também...
 - Me chame de você.
 - Você também perdoe a minha indiscrição, mas tenho visto alguns restos de comida em seu lixo. Champignons, coisas assim...
 - É que gosto muito de cozinhar, fazer pratos diferentes. Mas como moro sozinha, às vezes sobra...
 - A senhora... Você tem família?
 - Tenho, mas não aqui.
 - No Espírito Santo.
 - Como é que você sabe?
- (...)

RESPONDA

a - Quais são as personagens do texto?

b - Os dois personagens se encontraram pela primeira vez na área de serviço. Como eles ficaram sabendo coisas um do outro?

2. Na oração “Eu ainda não o conhecia pessoalmente” Identifique:

a - O sujeito _____

b - O predicado _____

c - Aparece muitas vezes no texto, um tipo de sinal de pontuação, inclusive no final do texto. Que sinal é esse e por que ele é usado tantas vezes? Explique.

d - Lembre-se: PREDICATIVO - é um estado, qualidade ou característica do sujeito.

Qual é o predicativo da oração: “Os personagens do texto são educados.” _____

PRODUÇÃO TEXTUAL

1. O que o lixo jogado de maneira incorreta pode causar à natureza?

MATEMÁTICA

1. Dê a notação científica do número 0,00087.

(A) $8,7 \cdot 10^{-8}$ (B) $8,7 \cdot 10^{-6}$ (C) $8,7 \cdot 10^{-7}$ (D) $8,7 \cdot 10^{-4}$

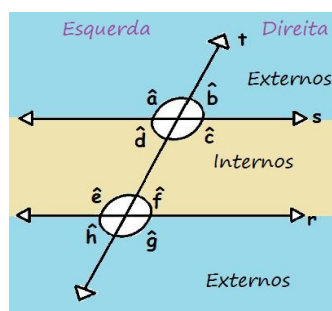
2. A distância entre o Sol e o planeta Júpiter é 778 000 000.

O número apresentado na forma de notação científica é:

(A) $7,78 \cdot 10^3$ (B) $7,78 \cdot 10^4$ (C) $7,78 \cdot 10^8$ (D) $7,78 \cdot 10^2$

RACIOCÍNIO LÓGICO

1. Na figura a seguir, a reta t é transversal às retas paralelas r e s.



Quais são os ângulos externos?

(A) a,b,d,e (B) c,d,e,f (C) a,b,h,g (D) e,f,g,h

HISTÓRIA

1. Qual destas é uma religião afro-brasileira?

(A) Candomblé (B) Catolicismo (C) Budismo (D) Islamismo

2. Qual destes é um instrumento musical típico da Bahia?
(A) Berimbau (B) Ukulele (C) Violão (D) Pandeiro

GEOGRAFIA

1. Marque a alternativa que NÃO corresponde à globalização.
(A) Os avanços tecnológicos como transporte, comunicação e informática.
(B) O fortalecimento do Estado-Nação.
(C) Aprofundamento da divisão internacional do trabalho ou da produção.
(D) A ampliação das desigualdades socioeconômicas norte-sul.

2. A rede Mc Donald's tornou-se um dos símbolos das principais mudanças ocorridas em diversos países nos últimos cinquenta anos. Sua história se confunde com a das relações econômicas internacionais. Hoje cerca de 50 milhões de pessoas por dia comem em um Mc Donald's em mais de 120 países. Uma mudança que pode ser representada pela expansão dessa rede e sua respectiva causa histórica, são:

(A) Mundialização da cultura / extinção da dualidade local/global.
(B) Padronização do consumo – expansão de empresas transnacionais.
(C) Americanização dos costumes – internalização tecnológica do setor industrial.
(D) Uniformização dos hábitos alimentares – integração mundial dos mercados nacionais.

CIÊNCIAS

1. Durante os anos 1990, a incidência de dengue aumentou consideravelmente com a dispersão do *Aedes aegypti* no território nacional, que se intensificou a partir de 1994, tornando cada vez mais evidente a necessidade de melhorar a vigilância do vetor. Nesse contexto, a avaliação do status de susceptibilidade aos inseticidas era uma importante ferramenta de controle.

A resistência nas populações desses insetos está associada a um processo no qual:

(A) o inseticida induz mutações nos insetos sensíveis, tornando-os resistentes.
(B) os insetos sensíveis se adaptam ao inseticida.
(C) os insetos resistentes são selecionados pela ação do próprio inseticida.
(D) os insetos resistentes passaram a não tolerar o inseticida.
(E) os insetos sensíveis começaram a utilizar o inseticida como um nutriente.

2. Dengue é uma doença limitada a certas áreas geográficas. Essa limitação deve-se:

(A) ao fato de a doença não ser contagiosa.

- (B) à falta de combate adequado ao transmissor.
- (C) à distribuição geográfica do inseto transmissor.
- (D) à inexistência do agente patogênico em regiões tropicais.
- (E) à ausência de alimento para o agente patogênico em certos ambientes.

LÍNGUA INGLESA



Vocabulary:

Once upon - Era uma vez	cat- gato	happy - feliz
house - casa	dog - cachorro	fat - gordo
man - homem	thin - magro	ate - comeu
breakfast - café da manhã	slippers - pantufas	

1. No primeiro quadrinho, Jon apresenta três personagens da sua história. Identifique esses personagens.

- (A) A house, a dog and a cat. (B) A time, a house and a cat.
- (C) A man, a dog and a cat. (D) A man, a dog and house.

ARTE

1. A música é considerada por diversos autores como uma prática cultural e humana. Não se conhece nenhuma civilização ou agrupamento que não possua manifestações musicais próprias. Embora nem sempre seja feita com esse objetivo, a música pode ser considerada como uma forma de arte, considerada por muitos como sua principal função.

Escreva o nome do seu cantor favorito? Qual é o seu estilo musical?

ENSINO RELIGIOSO

1. Os valores humanos podem ser definidos como os princípios morais e éticos que conduzem a vida de uma pessoa. Eles fazem parte da formação de sua consciência e da maneira como vivem e se relacionam em uma sociedade. Os valores humanos funcionam como normas de conduta que podem determinar decisões importantes e garantir que a convivência entre as pessoas seja pacífica,

honestas e justas. São os valores cultivados por uma pessoa que vão basear suas decisões e demonstrar ao mundo quais os princípios que regem sua vida. Como podemos definir valores humanos?

EDUCAÇÃO FÍSICA

1. Sempre existiu na sociedade, a ideia de que algumas práticas são para homens e outras para mulheres. Pensamentos culturais impositivos sobre como homens e mulheres devem se portar, ou qual é o lugar do homem e o lugar da mulher na sociedade, influenciaram claramente a dança como prática social da cultura humana. Em qualquer estilo de dança, devem estar todos os que desejam, os que se interessam pela arte e pelos movimentos corporais que estas proporcionam.

- Na sua opinião, por que ainda o homem sofre preconceito na prática de uma dança?
 - Qual o papel da família para amenizar essa cultura de preconceito?
-
-

EIXO NORTEADOR: O BOM USO DO DINHEIRO, SABENDO USAR NÃO VAI FALTAR!

 **III SEMANA (21 a 25 de junho de 2021)**

LÍNGUA PORTUGUESA

TEXTO - DINHEIRO NÃO É TUDO NA VIDA

É preciso reconhecer que o dinheiro é realmente um elemento importante em nossas vidas, afinal é através dele que temos acesso à alimentação, à moradia e podemos suprir mais uma infinidade de necessidades. Contudo, devemos sempre nos lembrar que, apesar de ser necessário, o dinheiro não é tudo e nunca será capaz de trazer felicidade e amor. Por mais que através dele possamos ter acesso a momentos especiais, se não houver uma satisfação interna, tudo o que vier será vazio, sem um significado maior. Muitos acham que a famosa frase que diz que dinheiro não traz felicidade seja falsa e exagerada, chegando até a fazerem piadas com o assunto. A verdade é que aqueles que possuem um alto poder aquisitivo, realmente têm mais facilidade para adquirir o que quiserem, como casa e carros luxuosos, por exemplo, mas não conseguem comprar um lar, uma família que os ame.”

1. As conjunções coordenativas são: aditivas - e, nem/ adversativas - mas, porém, contudo, todavia, no entanto, entretanto/ alternativas - ou...ou/ ora...ora/ quer...quer/ seja...seja/ explicativas - que, pois, porque/ conclusivas - logo,

portanto, por isso, então. Essas conjunções iniciam as orações coordenadas sindéticas (as que possuem conjunções coordenativas).

Identifique nas frases a seguir a conjunção coordenativa e classifique-a, observando a classificação das conjunções acima.

a - ...”Contudo, devemos sempre nos lembrar que, apesar de necessário, o dinheiro não é tudo e nunca será capaz de trazer felicidade...”

b - “A verdade é que aqueles que possuem alto poder aquisitivo, realmente têm mais facilidade para adquirir o que quiserem, (...)mas não conseguem comprar um lar, uma família que os ame.

2. Qual é o tema central do texto?

PRODUÇÃO TEXTUAL

1. Você concorda com a afirmativa existente no título do texto “DINHEIRO NÃO É TUDO NA VIDA”? Por quê? Desenvolva suas ideias sobre o assunto. Existem pessoas que têm compulsão para comprar. O que pode acontecer a elas de uma maneira geral? Reflita e exponha suas opiniões.

MATEMÁTICA

1. No Brasil há, aproximadamente, 209,3 milhões de habitantes, distribuídos em uma área de 8.516.000 km².

- Total de habitantes: 209.300.000 hab

- Área: 8.516.000 km²

$$\frac{209.300.000}{8.516.000} = \text{_____} \text{ hab/km}^2$$

Logo, a densidade demográfica indica que há cerca de:

(A) 26,37 hab/km² (B) 22,47 hab/km² (C) 28,67 hab/km² (D) 24,57 hab/km²

2. O Distrito Federal apresenta a maior densidade demográfica do país:

- Total de habitantes: 3.039.444 habitantes

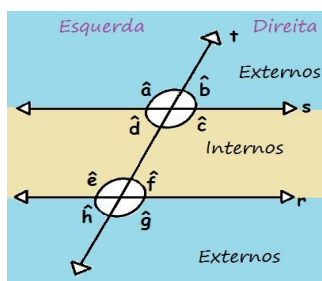
- Área: 5.779 km²

$$\frac{3.039.444}{5.779} = \text{_____} \text{ hab/km}^2$$

Logo, a densidade demográfica indica que há cerca de:
(A) 525,86 hab/km² (B) 325,26 hab/km² (C) 425,56 hab/km² (D) 725,96 hab/km²

RACIOCÍNIO LÓGICO

1. Na figura a seguir, a reta t é transversal às retas paralelas r e s.



Quais são os ângulos que estão à direita da reta transversal t?

(A) a,b,d,e (B) c,d,e,f (C) a,b,h,g (D) b,c,f,g,

HISTÓRIA

1. A 1ª Guerra Mundial envolveu quantos países?

2. Qual foi o número de mortos nessa Guerra?

GEOGRAFIA

1. Observe que na charge abaixo existem várias marcas de empresas que são multinacionais. Defina o que é multinacional.



2. Leia a frase e responda a questão abaixo.

A globalização é um dos processos de aprofundamento internacional da integração econômica, social, cultural, política, que teria sido impulsionado pelo barateamento dos meios de transporte e comunicação dos países no final do século XX e início do século XXI.

Embora vários estudiosos situem a origem da globalização em tempos modernos, outros traçam a sua história muito antes da era das descobertas e viagens ao Novo Mundo pelos europeus. Alguns até mesmo traçam as origens ao terceiro milênio A.C. No final do século XIX e início do século XX, a conexão das economias e culturas do mundo cresceu muito rapidamente.

- O que é globalização?
-
-
-

CIÊNCIAS

1. Assinale a alternativa que contém exemplos de arboviroses.

- (A) Dengue, leishmaniose tegumentar e leptospirose.
- (B) Leptospirose, chikungunya e febre do Nilo.
- (C) Chikungunya, zika e febre amarela
- (D) Zika, Chagas e calazar

2. Nas principais arboviroses de importância em saúde pública, a transmissão pode acontecer no momento do parto de gestantes virêmicas, muitas vezes provocando infecção neonatal grave. A transmissão vertical pode ocasionar aborto ou gerar malformações e diferentes manifestações clínicas no feto, nas infecções por:

- (A) Filariose
- (B) Zika
- (C) Mayaro
- (D) Febre amarela

LÍNGUA INGLESA

- Simple Future

O *Simple Future* (Futuro Simples), também chamado de *Future Simple*, é um tempo verbal usado para expressar ações futuras que irão ocorrer, ou seja, que ainda não aconteceram.

O *Simple Future Tense* pode indicar uma decisão que está sendo tomada no ato da fala. Além disso, pode expressar um pedido, uma promessa, um aviso, um convite ou uma oferta.

Em português, esse tempo verbal corresponde ao Futuro do Presente do Modo Indicativo.

Na formação dos tempos futuros em inglês é comum utilizarmos os verbos modais auxiliares *will* e *shall* e a estrutura *going to*.

Futuro com *will*

Geralmente, usamos o *will* para indicar uma ideia de futuro que pode expressar incerteza ou ser decidida no momento da fala.

Regras de formação e exemplos:

Affirmative form

A formação de frases de futuro com *will* na forma afirmativa segue a seguinte estrutura:

Sujeito + *will* + verbo principal no infinitivo sem o *to* + complemento

Exemplos:

They will buy a new house. (Eles comprarão uma casa nova.)

We will go out tonight. (Nós sairemos hoje à noite.)

1. Complete with simple future.

Model: A: "I think there's someone at the door." B: "I will get (get) it."

a) My father thinks schools _____ (be) extincts.

b) A: "They are moving apartment tomorrow." B: "I _____ (come) and help Them."

c) If he passes the exam, he _____ (be) incredible happy.

d) I _____ (be) here at eight o'clock, I promise.

e) We _____ (study) hard for exam.

ARTE



1. Música: um fenômeno social

A imagem retrata a ala de baianas da Imperatriz Leopoldinense no carnaval 2008, Rio de Janeiro. As práticas musicais não podem ser dissociadas do contexto cultural. Cada cultura possui seus próprios tipos de música totalmente diferentes em seus estilos, abordagens e concepções do que é a música e do papel que ela deve exercer na sociedade. Entre as diferenças estão: a maior

propensão ao humano ou ao sagrado; a música funcional em oposição à música como arte; a concepção teatral do Concerto contra a participação festiva da música folclórica e muitas outras.

Qual é o tipo de música que está associada ao Carnaval?

ENSINO RELIGIOSO

1. Os valores humanos funcionam como normas de conduta que podem determinar decisões importantes e garantir que a convivência entre as pessoas seja pacífica, honesta e justa. São os valores cultivados por uma pessoa que vão basear suas decisões e demonstrar ao mundo quais os princípios que regem sua vida.

Como os valores humanos funcionam?

EDUCAÇÃO FÍSICA

1. O ensino da Dança de Salão envolve técnicas de posturas; execução de passos específicos de cada dança; o conduzir e ser conduzida; percepção rítmica e história de cada ritmo e sua evolução. Ex: Samba, Forró, Bolero, Fox, Tango, etc. A Dança de Salão, tem como grande característica a sua prática ser feita em par, trazendo o envolvimento de dois dançarinos, dentro do espaço da Dança. Considerando isso, marque a alternativa correta que traz exemplos de Danças de Salão nacionais:

- (A) Brega e Funk. (B) Samba e Forró.
(C) Valsa e Tango. (D) Forró e Ballet

➡ **IV SEMANA- (28/29/30 de junho e 01/02 de julho de 2021)**

LÍNGUA PORTUGUESA

TEXTO - CONTRIBUIÇÃO INDÍGENA PARA A CULTURA BRASILEIRA

A colonização do território brasileiro pelos portugueses representou em grande parte a destruição física dos indígenas através de guerras e escravidão, tendo sobrevivido apenas uma pequena parte das nações indígenas originais. A cultura indígena foi também parcialmente eliminada pela ação da catequese e intensa miscigenação com outras etnias. Atualmente, apenas algumas poucas nações indígenas ainda existem e conseguem manter parte de sua cultura original. Apesar disso, a cultura e os conhecimentos dos indígenas sobre a terra foram determinantes durante a colonização, influenciando a língua, a culinária, o folclore e o uso de objetos caseiros diversos como a rede de descanso. Um dos aspectos mais notáveis da influência indígena foi a chamada língua geral (Língua geral paulista, Nheengatu) (...) Cultura brasileira - OpenBrasil/org

1. Destaque do texto as contribuições indígenas para a cultura brasileira.

PRODUÇÃO DE TEXTO

1. Pesquise como se encontra a situação atual dos índios no Brasil.

MATEMÁTICA

1. Em Matemática, consideramos grandeza algo que pode ser medido. Não confunda a grandeza com o objeto em si, mas sim com a sua medida. Largura, peso, distância, velocidade, entre outros, são todas consideradas grandezas. A suspeita de que haveria uma relação causal entre tabagismo e câncer de pulmão foi levantada pela primeira vez a partir de observações clínicas. Para testar essa possível associação, foram conduzidos inúmeros estudos epidemiológicos. Dentre esses, houve o estudo do número de casos de câncer em relação ao número de cigarros consumidos por dia, cujos resultados são mostrados no gráfico a seguir.



Centers for Disease Control and Prevention CDC-EIS
Summer Course – 1992 (adaptado).

De acordo com as informações do gráfico, assinale a opção correta:

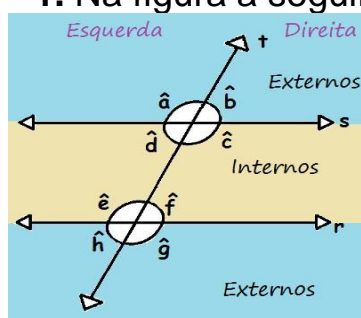
- (A) o consumo diário de cigarros e o número de casos de câncer de pulmão são grandezas inversamente proporcionais.
- (B) o consumo diário de cigarros e o número de casos de câncer de pulmão são grandezas que não se relacionam.
- (C) o consumo diário de cigarros e o número de casos de câncer de pulmão são grandezas diretamente proporcionais.
- (D) o consumo diário de cigarros e o número de casos de câncer de pulmão são grandezas que estão relacionadas, mas sem proporcionalidade.

2. Das relações entre as grandezas a seguir, identifique aquela que não é diretamente proporcional.

- (A) Quantidade de funcionários e produtividade
- (B) Distância percorrida e consumo do veículo
- (C) Velocidade do automóvel e tempo para completar o percurso
- (D) Valor pago pela verdura e peso

RACIOCÍNIO LÓGICO

1. Na figura a seguir, a reta t é transversal às retas paralelas r e s .



Quais são os ângulos que estão à esquerda da reta transversal t ?

- (A) a, d, e, h (B) c, d, e, f (C) a, b, h, g (D) e, f, g, h

HISTÓRIA

1. Em 11 de novembro de 1918 assina um armistício com aliados o assunto tratado neste documento na I Guerra Mundial é sobre:

2. O fim da I Guerra Mundial foi selado pelo tratado de:

GEOGRAFIA

1. Arboviroses são as doenças causadas pelos chamados arbovírus, que incluem o vírus da dengue, Zika vírus, febre chikungunya e febre amarela.

No Brasil, as arboviroses circulantes são as transmitidas pelo mosquito *Aedes aegypti*. Uma das formas mais eficazes de se proteger é evitar criadouros de mosquitos, não deixando água parada em sua residência.

Quais são os vírus causados pelos arbovírus?

2. As arboviroses são um grupo heterogêneo de vírus transmitidos por um vetor artrópode hematófago. A doença mais conhecida e mais grave causada por um arbovírus é a febre amarela. Qual vírus da arbovirose é mais grave?

CIÊNCIAS

1. Um professor de Biologia afirmou que o *Aedes aegypti* era vetor de várias doenças. Um aluno, no entanto, questionou-o se esse mosquito não transmitia somente a dengue, uma vez que é chamado popularmente de mosquito-da-dengue. O professor, então, explicou que a dengue é a doença mais conhecida, entretanto, o mosquito transmitia outras. Analise as alternativas a seguir e marque a única que não pode ser citada pelo professor como exemplo de doença transmitida pelo *A. aegypti*.

(A) Febre amarela. (B) Zika. (C) Chikungunya. (D) Malária.

2. Ao ser picado por um mosquito *Aedes aegypti*, podemos afirmar que:

(A) contraímos dengue, pois todos os mosquitos são contaminados.

(B) estamos sujeitos à contaminação por diversos tipos de bactéria, como a causadora da dengue.

(C) trata-se de uma fêmea, pois apenas as fêmeas são capazes de picar o ser humano.

(D) trata-se de um macho, pois eles são os únicos capazes de picar os seres humanos.

LÍNGUA INGLESA



VOCABULARY:

learn- aprender live- viver look to - olhar para
yesterday - ontem today- hoje

1. As palavras yesterday, today e tomorrow, respectivamente traduzidas para o português são:

- (A) amanhã, hoje e ontem. (B) hoje, ontem e amanhã.
(C) ontem, hoje e amanhã. (D) amanhã, hoje e ontem.

ARTE

1-A arte africana representa os usos e costumes das tribos africanas. O objeto de arte é funcional e expressa muita sensibilidade. Nas pinturas, assim como nas esculturas, a presença da figura humana identifica a preocupação com os valores étnicos, morais e religiosos. Como é o objeto da arte africana?

ENSINO RELIGIOSO

1. Existem muitos valores que são importantes em qualquer contexto ou lugar, podendo ser considerados valores universais. Eles devem ser cultivados para garantir uma convivência ética e saudável entre as pessoas que fazem parte de uma sociedade.

Cite um valor que você considera um valor universal.

EDUCAÇÃO FÍSICA

1. Arboviroses são as doenças causadas pelos chamados arbovírus, que incluem o vírus da dengue, Zika vírus, febre chikungunya e febre amarela.

No Brasil, as arboviroses circulantes são as transmitidas pelo mosquito *Aedes aegypti*. Uma das formas mais eficazes de se proteger é evitar criadouros de

mosquitos, não deixando água parada em sua residência. Faça uso também de repelentes. Os sintomas das arboviroses variam muito, já que sua única característica em comum é o fato de serem transmitidos por artrópodes. No entanto, dentro das subclassificações das arboviroses, algumas costumam ter sintomas semelhantes: Febre, dor de cabeça, mal-estar, dor nas articulações, manchas vermelhas, erupções na pele, náuseas e vômito.

- Em sua casa quais medidas de prevenção você utiliza para evitar criadouros de mosquito?



V SEMANA- (05 a 09 e 12 de julho de 2021)

LÍNGUA PORTUGUESA

1. Observe o texto e responda:

Nos dias de hoje, o território brasileiro concentra a maior população africana fora da própria África. E é exatamente por conta desse motivo que a cultura oriunda desses povos exerce uma grande influência em nosso país, com destaque principalmente para o nordeste do estado. Porém foi só junto com o início de século XX que grande parte das manifestações, costumes, ritos e outros começaram a fazer parte também da cultura brasileira, sendo considerados expressões não essencialmente africanas, porém arte genuinamente afro-brasileiras. Sendo assim, hoje a cultura negra é também fundamental para formar a identidade de nossa nação, motivo pelo qual a cultura afro-brasileira se estabelece em todo nosso território. Vale destacar que ela é também o resultado das crenças dos indígenas e dos portugueses, que por muitos anos nos influenciaram com suas músicas, culinária e religiões.

> A cultura brasileira, segundo o texto, é resultado de que povos?

Lembre-se: predicativo - é uma característica (qualidade ou estado do sujeito)

2. Da frase “Sendo assim, hoje a cultura negra é também fundamental...”

Destaque: o sujeito _____ / o verbo de ligação _____ e o predicativo _____

PRODUÇÃO TEXTUAL

1. Pesquise: Qual a importância da diversidade cultural no Brasil? _____

MATEMÁTICA

1. Marque com um X a grandeza diretamente proporcional:

- (A) Número de pessoas em um churrasco e a quantidade (gramas) que cada pessoa poderá consumir.
- (B) Número de erros em uma prova e a nota obtida.
- (C) Número de operários e o tempo necessário para eles construírem uma casa.
- (D) Quantidade de alimento e o número de dias que poderá sobreviver um náufrago.

2. Determine qual grandeza é inversamente proporcional.

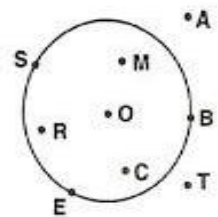
- (A) Tempo que se gasta caminhando - distância percorrida
- (B) Tempo de prática - Habilidade.
- (C) Tempo de descanso - Cansaço.
- (D) Tempo de viagem em um táxi - Preço da corrida.

RACIOCÍNIO LÓGICO

1. Dos pontos indicados na figura:

Quais são interiores à circunferência?

- (A) A, M, O, C (B) S, E, B, R (C) M, O, C, R (D) A, T, B, S



HISTÓRIA

1. Durante a Primeira Guerra Mundial e no pós-guerra, os Estados Unidos conquistaram um amplo mercado, respondendo por cerca de 30% da produção mundial e ocupando o:

- (A) primeiro lugar na lista dos maiores exportadores do planeta
- (B) primeiro lugar na lista dos maiores importadores do planeta
- (C) segundo lugar na lista dos maiores exportadores do planeta
- (D) segundo lugar na lista dos maiores importadores do planeta

2. A Europa saiu da guerra economicamente abalada. França e Grã-Bretanha tinham pesadas dívidas de guerra, contraídas com:

- (A) Rússia (B) Estados Unidos (C) Alemanha (D) Bélgica

GEOGRAFIA

1. O desenvolvimento dos meios de comunicação de massa trouxe benefícios e prejuízos para a humanidade. Que fator positivo eles proporcionam ao homem?

- (A) O acesso à informação (B) A melhoria na distribuição de renda
(C) A redução do consumo (D) A redução da violência

2. Sony, Siemens, Avon, Nike, Samsung, Fiat, Adidas, Shell, etc, estão cada vez mais presentes na vida das cidades. Elas representam:

- (A) A mundialização do capital. (B) O poderio da robótica.
(C) A vulgarização da internet. (D) O fortalecimento do mercado interno.

CIÊNCIAS

1. O zika vírus tornou-se causa de calamidade pública no Brasil, tanto por sua propagação quanto por sua associação aos casos de:

- (A) Abortos espontâneos (B) Mortalidade materna
(C) Anomalias genéticas (D) Microcefalia.

2. Após utilizar o oxímetro de pulso em um paciente portador do Zika vírus, e antes de utilizá-lo em outro paciente, o profissional de enfermagem deve realizar como processamento mínimo a:

- (A) Desinfecção de alto nível. (B) Limpeza e/ou desinfecção de baixo nível
(C) Esterilização com vapor úmido (D) Autoclavação com vapor saturado

LÍNGUA INGLESA

1. O nome da revista é:

- (A) Time. (B) Neymar.
(C) Pelé (D) Connect Brazil.



ARTE

1. A principal influência da música africana no Brasil é o _____. O estilo é hoje o cartão postal musical do país e está envolvido na maioria das ações

culturais da atualidade. Gerou também diversos subgêneros e dita o ritmo da maior festa popular brasileira.

Após a leitura do texto acima assinale a alternativa que preencha corretamente a lacuna:

(A) Zumba. (B) Forró. (C) Samba. (D) Maracatu

ENSINO RELIGIOSO

1. Leia a característica e tente descobrir o valor a qual a definição se refere:

(A) Sentimento que predispõe alguém a desejar o bem de outrem ou de alguma coisa: (dica - 4 letras) _____

(B) Capacidade de cada um se decidir ou agir segundo a própria vontade ou determinação: (dica – 9 letras) _____

(C) Qualidade que tem a pessoa que não desiste daquilo em que acredita: (dica – 12 letras) _____

(D) Harmonia. Momento em que não há guerras ou conflitos. Estado de humor de quem está tranquilo: (dica – 3 letras) _____

EDUCAÇÃO FÍSICA

1. Coronavírus é uma família de vírus que causam infecções respiratórias. Período de incubação é o tempo que leva para os primeiros sintomas aparecerem desde a infecção por coronavírus, que pode ser de 2 a 14 dias.

Os sintomas do coronavírus: - Febre, tosse, dificuldade para respirar, dores de cabeça, cansaço, perda de olfato e paladar, etc...

O que você precisa saber e fazer para prevenir o contágio: Lave as mãos com água e sabão ou use álcool em gel. Cubra o nariz e a boca ao espirrar ou tossir. Evite aglomerações. Mantenha os ambientes bem ventilados. Use máscara e não compartilhe objetos pessoais.

- Complete o texto abaixo com as palavras que mantêm relação com as recomendações de bons hábitos para prevenir e evitar o contágio acelerado do coronavírus entre as pessoas do mundo.

AGLOMERAÇÕES / MÃOS / CORONAVÍRUS / PROTEGER / BOCA

“Medidas do dia a dia, como lavar as _____, não colocar as mãos na _____, olhos e nariz, e evitar _____, reduzem o contágio da doença. Essas são as maneiras mais importantes pelas quais as pessoas podem _____ a si, ao seu grupo de pares, as famílias e a comunidade de doenças virais, incluindo o _____”.

II SIMULADO DIAGNÓSTICO REMOTO – FASE IX

DATA: 29/06/2021

ESCOLA: _____

ALUNO (A): _____ TURMA: _____



Observe a imagem e responda às perguntas 1, 2, 3 e 4.

Nessa imagem podemos ler as seguintes mensagens:

- . Você ainda pode escolher, mas até quando?
- plante.respeite.recycle.pratique.economize.conserve.reutilize
- .Queremos um mundo vivo agora!
- . 5 de junho Dia Mundial do Meio Ambiente

QUESTÃO 1- (EJA-IX-LP-03)- A frase: “Você ainda pode escolher, mas até quando? ”, deixa claro que:

- A) Sempre podemos fazer escolhas.
- B) A natureza e o meio ambiente não podem esperar por muito tempo.
- C) Precisamos ensinar as pessoas a fazerem suas escolhas.
- D) Não devemos fazer perguntas sem entender do assunto.

QUESTÃO 2-(EJA-IX-LP-03)-As nossas ações são indicadas de maneira clara e objetiva em:

- A) “Você ainda pode escolher, mas até quando?”
- B) plante, respire, recicle, pratique, proteja, economize, conserve, reutilize.
- C) “Queremos um mundo vivo agora!”
- D) 5 de junho Dia Mundial do Meio Ambiente.

QUESTÃO 3-(EJA-IX-LP-08)- Na frase “Queremos um mundo vivo agora!”. A palavra destacada na frase nos ajuda a compreender que:

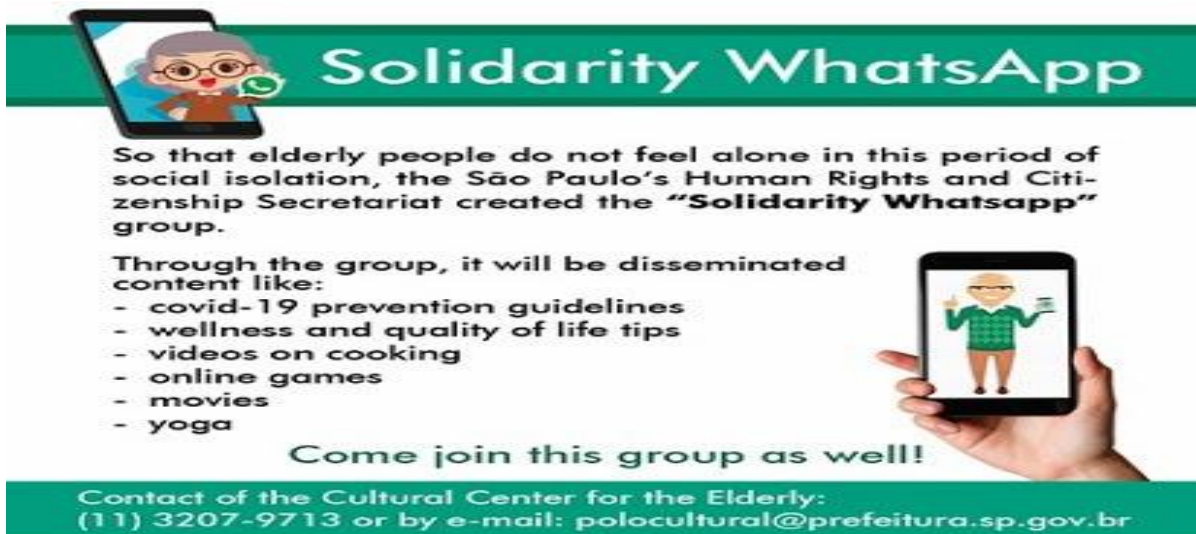
- A) Nossa preocupação deve ser apenas com o momento atual.
- B) Nossa decisão de cuidar do meio ambiente não pode ficar a critério dos governantes.
- C) Existe uma certa urgência em relação às atitudes dos seres humanos para com o planeta.
- D) As plantas precisam de água agora, caso contrário, elas morrerão secas.

QUESTÃO 4- (EJA-IX-PT-09)- O que a separação na imagem nos alerta?

- (A) A beleza de uma árvore bem cuidada.
- (B) O impacto das nossas ações no meio ambiente.
- (C) As estações do ano.
- (D) Os diversos tipos de vida vegetal existentes no planeta.

QUESTÃO 5-(EJA-IX-LI-03)-O público-alvo do texto são:

- A) children
- B) young people
- C) women
- D) elderly people.



Solidarity WhatsApp

So that elderly people do not feel alone in this period of social isolation, the São Paulo's Human Rights and Citizenship Secretariat created the "Solidarity Whatsapp" group.

Through the group, it will be disseminated content like:

- covid-19 prevention guidelines
- wellness and quality of life tips
- videos on cooking
- online games
- movies
- yoga

Come join this group as well!

Contact of the Cultural Center for the Elderly:
(11) 3207-9713 or by e-mail: polocultural@prefeitura.sp.gov.br



QUESTÃO 6- (EJA-IX-LI-15)-Why was the girl surprised in the first comic?

- A) Because you saw your colleague crying.
- B) Because he realized that she was sick.
- C) Because he saw the boy with his arm bandaged.D) Because she didn't study for the exam.



Observe a obra a seguir e responda às perguntas 7 e 8.



O Brasileiro Romero Britto é considerado um ícone da cultura pop, tem criado obras-primas que invocam o espírito de esperança e transmitem uma sensação de aconchego, colecionadores e admiradores a chamam de "arte da cura".

Sua arte contém cores vibrantes e composições ousadas, criando graciosos temas com elementos compostos do cubismo. Britto tem suas pinturas e esculturas presentes nos cinco continentes e em mais de 100 galerias no mundo.

QUESTÃO 7- (EJA-IX-AR-10)-O quadro acima é uma obra de arte criada por Romero Brito. Qual o nome dado a esta obra?

- A) Amor de mão B) A cor do amor C) Dois corações D) Amor de criança

QUESTÃO 8- (EJA-IX-AR-10)-Cotidianamente qual a cor melhor representa o amor?

- A) Vermelho B) Verde C) Amarelo D) Roxo

QUESTÃO 9- (EJA-IX-EF-06)- A dança é uma das manifestações artísticas mais antigas da humanidade. Teve origem nos gestos e movimentos naturais do corpo humano para expressar emoções e sentimentos, a partir da necessidade de comunicação entre os homens. Em especial, a **dança** social ou **dança de salão** é praticada por casais, em reuniões sociais e surgiu na Europa, na época do Renascimento. Pelo menos desde os séculos XV e XVI, tornou-se uma forma de lazer muito apreciada, tanto nos salões dos palácios da nobreza, como entre o povo em geral.

Atualmente quais são as danças de salão mais praticadas no Brasil?

- A) Forró, Valsa e Arrastapé. B) Samba de Gafieira, Rumba e Chachachá.
C) Salsa, Samba de Gafieira e Forró Universitário.
D) Paso-Doble, Piseiro e Forró.

II SIMULADO DIAGNÓSTICO REMOTO – FASE IX

DATA: 30/06/2021

ESCOLA: _____

ALUNO (A): _____ TURMA: _____

QUESTÃO 1- (EJA-VIII-MA-09)



Quando falamos em fração usamos qual operação?

- (A) Multiplicação (B) Divisão (C) Adição (D) Subtração

QUESTÃO 2-(EJA-VIII-MA-05)-A professora de Ana propôs um desafio para a turma. Qual a resposta correta para o desafio da professora de Ana?

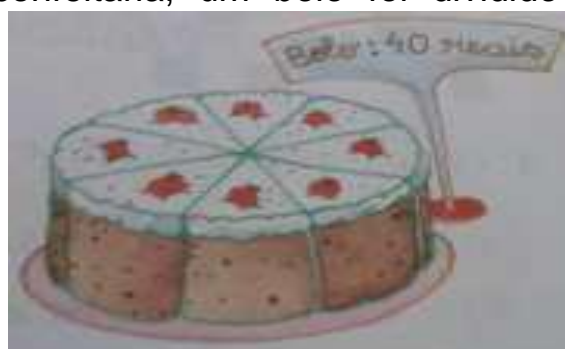
$$\frac{20}{16} - \frac{8}{16} - \frac{3}{16} =$$



- (A) 9/16 (B) 16/9 (C) 11/16 (D) 19/16

QUESTÃO 3- (EJA-VIII-MA-05)-Numa confeitaria, um bolo foi dividido em 8 pedaços iguais.

Alguém que deseja comprar 5 fatias vai pagar quanto pelo bolo, ou seja, quanto $\frac{5}{8}$ do bolo?



é

- (A) R\$ 5,00
- (B) R\$ 20,00
- (C) R\$ 25,00
- (D) R\$ 40,00

QUESTÃO 4- (EJA-VIII-RL-05)-Coloque as placas em ordem crescente dos números e descubra a palavra secreta.



- (A) Diamante
- (B) Diagonal
- (C) Diagrama
- (D) Diadema

QUESTÃO 5- (EJA-IX-HI-07)-Leia o texto e responda:

"Mulher negra, cria da Maré e defensora dos Direitos Humanos."

A vereadora Marielle Franco, assassinada na noite de 14 de março de 2018, no Rio, aos 38 anos, se descrevia desta maneira nas redes sociais, pontuando em primeiro lugar sua cor e gênero; sua origem, nascida e criada no conjunto de favelas do Complexo da Maré, na zona norte do Rio; e a missão que escolheu seguir na política. Marielle Franco é uma das muitas pessoas dispostas a lutar e em consequência dessas lutas foi alvo de um brutal assassinato.

Marque a alternativa **correta** sobre a luta de Marielle Franco:

- (A) Governadora do Estado do Rio, lutava pelos direitos sociais da população mais pobre.
- (B) Seu grande foco na política era a luta contra a corrupção.
- (C) Vereadora do Rio de Janeiro, defendia as elites da cidade.
- (D) Sua luta era pelos Direitos Humanos, a defesa da população negra, pobre e excluída socialmente, através de seu cargo de vereadora do Rio de Janeiro.

QUESTÃO 6- (EJA-IX-HI-07)-“O governo militar criou em 1970, impulsionados pelo “milagre econômico” o Plano de Integração Nacional. Esse plano tinha como objetivo desenvolver e expandir o capitalismo nas regiões Norte e Nordeste por meio de grandes obras de infraestrutura. Mas essas obras acabaram se tornando um alvo de grandes embates com a população mais pobre e os indígenas da região.” Qual alternativa abaixo explica a última do texto frase?

- (A) Estas obras apenas eram feitas em grandes cidades.
- (B) A população e os indígenas da região se rebelaram, parando as obras.
- (C) Populações e terras indígenas que cruzassem o caminho dos tratores deveriam ser removidas.
- (D) Esta frase é falsa, existindo um ótimo equilíbrio e diálogo na produção das obras.

QUESTÃO 7-(EJA-IX-GE-10)-O século XXI é marcado pelo o progresso científico. Desde o século XVI a humanidade vem passando por transformações e processos do sistema capitalista que atingiram seu ápice no século XX. Podemos classificar o auge e a atual fase do capitalismo de:

(A) Revolução Industrial. (B) Globalização. (C) Mercado. (D) Socialismo.

QUESTÃO 8- (EJA-IX-GE-11)-A cultura ocidental se expandiu no século XVI para o oriente no processo de colonização. A visão do mundo a partir da própria cultura no período das grandes navegações e colonização está correta na opção:

(A) Americanismo. (B) Africanismo. (C) Eurocentrismo. (D) Oceanismo.

QUESTÃO 9-(EJA-IX-CI-03)-O átomo de Rutherford (1911) foi comparado ao sistema planetário (o núcleo atômico representa o sol e a eletrosfera, os planetas): O núcleo é a região do átomo que:

(A) Contém as partículas de carga elétrica negativa.
(B) Contém as partículas de carga elétrica positiva.
(C) Contém elétrons. (D) Concentra praticamente toda a massa do átomo.

QUESTÃO 10- (EJA-IX-CI-09)-Mendel, durante as suas pesquisas, elaborou algumas hipóteses. Entre estas, estava a de que fatores se segregam quando ocorre a produção dos gametas. O que Mendel chamou de fatores, hoje sabemos que se trata dos (as):

(A) Fenótipo. (B) Genes. (C) RNA. (D) Espermatozoides.

QUESTÃO 11- (EJA-IX-ER-06)-Diante da afirmação de que todo brasileiro tem direito à moradia e a uma vida feliz, fato refletido na imagem de uma família exibindo sorrisos, alegria, o personagem tem uma reação de espanto e reproduz isso na frase “Eu também sou brasileiro e não sei o que é ser feliz! ”. Logo, da relação entre a ilustração e esse enunciado, é possível inferir que:

- (A) Brasileiro que não tem moradia não vive feliz.
- (B) Nem todo brasileiro é feliz, mesmo os que têm moradia.
- (C) O brasileiro, mesmo que não tenha moradia, vive feliz.
- (D) Brasileiros sem moradia vivem felizes.

