



EDUCAÇÃO DE JOVENS E ADULTOS - EJA
FASES IV E V - MÓDULO V DE APRENDIZAGEM IMPRESSO
01 A 30 DE JUNHO DE 2021

NOME: _____
ESCOLA: _____

DE OLHO NO MEIO AMBIENTE

➔ TRABALHANDO AS COMPETÊNCIAS SOCIOEMOCIONAIS

✓ O QUE É CIDADANIA?

CIDADANIA É O EXERCÍCIO DOS DIREITOS E DEVERES CIVIS, POLÍTICOS E SOCIAIS ESTABELECIDOS NA CONSTITUIÇÃO DE UM PAÍS, POR PARTE DOS SEUS RESPECTIVOS CIDADÃOS (INDIVÍDUOS QUE COMPÕEM DETERMINADA NAÇÃO).

A CIDADANIA TAMBÉM PODE SER DEFINIDA COMO A CONDIÇÃO DO CIDADÃO, INDIVÍDUO QUE VIVE DE ACORDO COM UM CONJUNTO DE ESTATUTOS PERTENCENTES A UMA COMUNIDADE POLITICAMENTE E SOCIALMENTE ARTICULADA.

UMA BOA CIDADANIA IMPLICA QUE OS DIREITOS E DEVERES ESTÃO INTERLIGADOS, E O RESPEITO E CUMPRIMENTO DE AMBOS CONTRIBUEM PARA UMA SOCIEDADE MAIS EQUILIBRADA E JUSTA.



• O QUE É CIDADANIA? _____

• PESQUISE O SIGNIFICADO DE CONSTITUIÇÃO. _____

• PESQUISE NO TEXTO 5 PALAVRAS NO PLURAL. _____

• ESCREVA AS PALAVRAS DO QUADRO NO PLURAL:

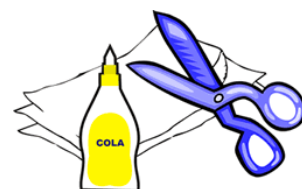
CIDADANIA – NAÇÃO – JUSTA – PARTE – PAÍS – CONSTITUIÇÃO



Pratique boas ações

TUDO CIDADÃO TEM DIREITOS E DEVERES! ENTÃO, PARA EXERCER A CIDADANIA E CONVIVER BEM, PRECISAMOS DESENVOLVER “**BOAS AÇÕES**” QUE VALORIZEM O RESPEITO, SOLIDARIEDADE, GRATIDÃO, COOPERAÇÃO, HONESTIDADE, PAZ, VERDADE, JUSTIÇA, GENEROSIDADE, AMIZADE, RESPONSABILIDADE, TOLERÂNCIA, AMOR, HUMILDADE, OBEDIÊNCIA ETC. ESTES SÃO VALORES ESSENCIAIS PARA A HUMANIDADE, PORTANTO, PRATIQUE - OS!!!

- RECORTE IMAGENS DE REVISTAS OU JORNAIS QUE DEMONSTREM “**BOAS AÇÕES**” E COLE-AS TODAS JUNTAS, EM UMA FOLHA A PARTE, TRANSFORMANDO-AS EM UMA **OBRA ÚNICA**. ASSIM, TERÁ “A SUA OBRA DE ARTE” SOBRE VALORES HUMANOS E CIDADANIA. CAPRICHE!



- ESCREVA UM PEQUENO TEXTO RELACIONADO AS IMAGENS PESQUISADAS.

✓ CIDADANIA E MEIO AMBIENTE

A VIDA EM SOCIEDADE REQUER ALGUMAS REGRAS DE BOA CONDUTA E RESPEITO MÚTUO PARA QUE VIVAMOS EM HARMONIA. A NATUREZA EQUILIBRADA É UMA DAS NECESSIDADES REAIS DO SER HUMANO, ASSIM A CIDADANIA É TAMBÉM A PREOCUPAÇÃO COM O MEIO AMBIENTE EM QUE VIVEMOS.



- ESCREVA 3 DICAS PARA PRESERVAR O MEIO AMBIENTE.



- O QUE VOCÊ TEM FEITO PARA PRESERVAR O MEIO AMBIENTE? PRODUZA UM PEQUENO TEXTO.

✓ **DECOMPOSIÇÃO DE MATERIAIS NA NATUREZA**

- OBSERVE A IMAGEM QUE REPRESENTA O TEMPO DE DECOMPOSIÇÃO DE MATERIAIS NA NATUREZA. DEPOIS COMPLETE A TABELA COM AS INFORMAÇÕES OBTIDAS

TEMPO DE DECOMPOSIÇÃO DE MATERIAS NA NATUREZA	
PAPEL	
CHICLETE	
BORRACHA	
TECIDO	
METAL	
VIDRO	
FILTRO DE CIGARRO	
PLÁSTICO	
MADEIRA PINTADA	



✓ O LIXO NO BRASIL

Brasil é o **4º maior produtor de lixo plástico do mundo** e recicla apenas 1%.

Estudo foi feito pelo Fundo Mundial para a Natureza (WWF) e divulgado nesta segunda (4).

País produz **11 milhões** de toneladas de lixo plástico por ano.

Por Tatiana Coelho, G1 04/03/2019 21h00



- “Brasil é o **4º maior produtor de lixo plástico do mundo...**

QUARTO É UM NÚMERO ORDINAL. OS NÚMEROS ORDINAIS DÃO A IDEIA DE ORDEM, LUGAR OU POSIÇÃO.

- PESQUISE E ESCREVA POR EXTENSO OS NUMERAIS ORDINAIS A SEGUIR:

1º	
6º	
8º	
10º	
14º	
15º	
20º	
24º	
28º	
30º	

✓ CONHECENDO O BRASIL

- EM QUAL ESTADO BRASILEIRO A CIDADE DE ITAPERUNA ESTÁ LOCALIZADA?



- LOCALIZE NO MAPA O ESTADO DO RIO DE JANEIRO. CIRCULE-O.

- EM QUAL REGIÃO NOSSO ESTADO FICA LOCALIZADO?
-

✓ TRANSFORMAÇÕES SOCIAIS E CULTURAIS

COMO EM TODO AMBIENTE, ITAPERUNA SOFREU TRANSFORMAÇÕES COM O PASSAR DO TEMPO.



- OBSERVE AS TRANSFORMAÇÕES E ESCREVA SOBRE ELAS.

ANTIGAMENTE	ATUALMENTE

HÁBITOS DE HIGIENE E SAÚDE

✓ HÁBITOS DE HIGIENE

HÁBITOS DE HIGIENE SÃO CUIDADOS QUE DEVEM SER TOMADOS PARA GARANTIR MELHOR SAÚDE E BEM-ESTAR.



- CITE 4 CUIDADOS QUE DEVEMOS TER EM RELAÇÃO A HIGIENE PESSOAL.

- O QUE DEVEMOS FAZER PARA NOS HIDRATAR? _____
- COMO LAVAR AS MÃOS DE FORMA SATISFATÓRIA? _____

✓ HÁBITOS SIMPLES FAZEM A DIFERENÇA

É MUITO IMPORTANTE PARA A SAÚDE MANTER OS HÁBITOS DE HIGIENE PESSOAL, PARA ISSO TEMOS QUE TOMAR BANHO DIARIAMENTE E USAR ROUPAS LIMPAS. ESCOVAR OS DENTES APÓS AS REFEIÇÕES E ANTES DE DORMIR. É PRECISO LAVAR SEMPRE AS MÃOS APÓS USAR O BANHEIRO E ANTES DAS REFEIÇÕES. MANTER AS UNHAS CURTAS E LIMPAS. NÃO ANDAR DESCALÇO.



PARA MANTER O CORPO HIDRATADO É PRECISO BEBER BASTANTE ÁGUA, E ESTA TEM QUE SER FILTRADA OU FERVIDA. A ÁGUA TEM QUE SER INCOLOR, INSÍPIDA E INODORA. É ESSENCIAL ALIMENTAR-SE DE FORMA SAUDÁVEL E ESTAR BEM ATENTO A CONSERVAÇÃO DOS ALIMENTOS E A HIGIENE A NOSSA VOLTA.

- QUAL É A IMPORTÂNCIA DA ÁGUA? E COMO ELA DEVE SER?

- QUAIS CUIDADOS DEVEMOS TER COM OS ALIMENTOS?

- NA FRASE “**A ÁGUA TEM QUE SER INCOLOR, INSÍPIDA E INODORA**”, ENCONTRE O SUJEITO E O PREDICADO.

SUJEITO: _____

PREDICADO: _____

✓ UM KIT DE HIGIENE BUCAL FEITO DE TECIDO, MEDE 30 CENTÍMETROS DE LARGURA E 45 CENTÍMETROS DE COMPRIMENTO.

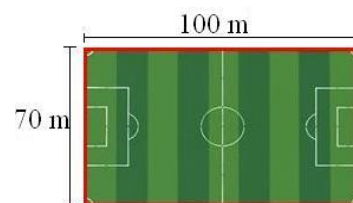
• PESQUISE OBJETOS EM SUA CASA, QUE SÃO MEDIDOS EM METROS, CENTÍMETROS E MILÍMETROS.



• CALCULE O PERÍMETRO DO KIT DE HIGIENE BUCAL.

PERÍMETRO É A MEDIDA DO COMPRIMENTO DE UM CONTORNO. OBSERVE UM CAMPO DE FUTEBOL, O PERÍMETRO DELE É O SEU CONTORNO.

$$100 + 100 + 70 + 70 = 340 \text{ M}$$

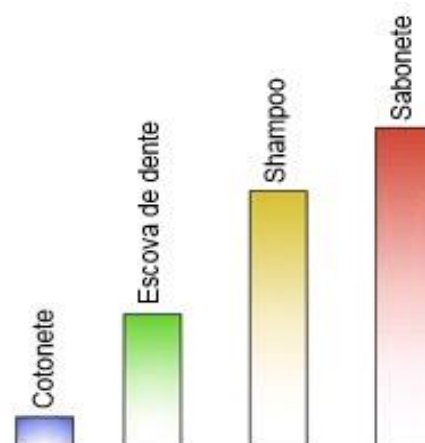


✓ FOI FEITA UMA PESQUISA EM UM SUPERMERCADO PARA AVALIAR QUAL TIPO DE PRODUTO É MAIS VENDIDO NA ÁREA DE HIGIENE PESSOAL.

➤ OBSERVE O GRÁFICO E RESPONDA.

✎ QUAL O PRODUTO MAIS VENDIDO?

✎ QUAL O PRODUTO MENOS VENDIDO?



✓ **SUSTENTABILIDADE: A PRIMEIRA MUDANÇA É DE ATITUDE**

SUSTENTABILIDADE É A BUSCA PELO EQUILÍBRIO ENTRE O SUPRIMENTO DAS NECESSIDADES HUMANAS E PRESERVAÇÃO DOS RECURSOS NATURAIS, NÃO COMPROMETENDO AS PRÓXIMAS GERAÇÕES.



• QUAIS ATITUDES SUSTENTÁVEIS VOCÊ PRÁTICA? ESCREVA UM TEXTO.

✓ **NOSSA ÁGUA: SABER USAR PARA NÃO FALTAR**



- ESCREVA QUATRO DICAS PARA ECONOMIZAR ÁGUA.

- OBSERVE O VAZAMENTO NAS TORNEIRAS.



1) EM GOTEJAMENTO LENTO, QUANTOS LITROS DE ÁGUA SÃO DESPERDIÇADOS EM UM MÊS? _____

2) EM GOTEJAMENTO RÁPIDO, QUANTOS LITROS DE ÁGUA SÃO DESPERDIÇADOS EM DOIS MESES? _____

3) EM GOTEJAMENTO CONTÍNUO, QUANTOS LITROS SÃO DESPERDIÇADOS EM TRÊS MESES? _____

✓ **CONSUMO DE ÁGUA POR ATIVIDADE**

<u>ATIVIDADE</u>	<u>QUANTIDADE</u> (em litros)
1 descarga no banheiro	10 a 16
1 minuto no chuveiro	15
1 lavagem de mãos	3 a 5
1 lavagem da máquina de lavar roupa	150
Escovar os dentes com torneira aberta	12
Lavagem de automóvel com mangueira	100

• **MULTIPLICANDO** 

1) OBSERVAMOS NA TABELA ACIMA QUE EM 1 MINUTO NO CHUVEIRO GASTAMOS 15 LITROS DE ÁGUA. QUANTOS LITROS DE ÁGUA GASTAMOS EM 3 MINUTOS NO CHUVEIRO?



2) ESCOVANDO OS DENTES COM A TORNEIRA ABERTA, GASTAMOS 12 LITROS DE ÁGUA. QUANTOS LITROS DE ÁGUA SERÃO GASTOS SE ESCOVARMOS OS DENTES 4 VEZES COM A TORNEIRA ABERTA?

VOCÊ SABIA?

Ao escovar os dentes com a torneira aberta, você gasta aproximadamente:

12 LITROS DE ÁGUA



✓ **HIGIENE AMBIENTAL**

Saiba como combater o *Aedes aegypti*

- REESCREVA AS DICAS PARA COMBATER O MOSQUITO Aedes AEGYPTI.

Combata o mosquito periodicamente:



Tampe os tonéis e caixas-d'água.



Mantenha as calhas sempre limpas.



Deixe garrafas sempre viradas.



Coloque areia nos vasos de plantas.



Retire sempre água dos pneus.



Mantenha a lixeira bem fechada.

- PESQUISE OS NOMES DAS DOENÇAS TRANSMITIDAS POR ESSE MOSQUITO E REGISTRE.



EDUCAÇÃO DE JOVENS E ADULTOS - EJA
SIMULADO DIAGNÓSTICO FASES IV E V
LÍNGUA PORTUGUESA - HISTÓRIA – GEOGRAFIA
DATA: 29/06/2021 VALOR: 20 PONTOS

LÍNGUA PORTUGUESA

1- LEIA.



- O TEXTO ALERTA PARA:

- (A) A IMPORTÂNCIA DAS PLANTAS.
- (B) A FORMA CORRETA DE DESCARTAR O LIXO.
- (C) A IMPORTÂNCIA DE ECONOMIZAR ÁGUA.
- (D) A POLUIÇÃO DOS RIOS.

2- EU



ÁGUA.

- O QUE SIGNIFICA O SÍMBOLO UTILIZADO?

- (A) CUIDO (B) AMO (C) ECONOMIZO (D) PAZ

3- IDENTIFIQUE O PRONOME PESSOAL DO CASO RETO, NO TEXTO ACIMA.

- (A) HOJE (B) EU (C) AMA (D) HOJE

4- LEIA O CARTAZ.



- O PRONOME DE TRATAMENTO USADO É:

- (A) PARTE (B) DELA (C) A (D) VOCÊ

5- NA PLACA APARECEM PALAVRAS NO PLURAL. SÃO ELAS:



- (A) CUIDE – PRESERVE
- (B) NÃO – NATUREZA
- (C) ANIMAIS – PLANTAS
- (D) A – AS

6 – QUAL MENSAGEM O DIÁLOGO NOS MOSTRA?



- (A) A IMPORTÂNCIA DA ALIMENTAÇÃO SAUDÁVEL.
- (B) A SAÚDE NÃO DEPENDE DA ALIMENTAÇÃO.
- (C) OS CUIDADOS NO PREPARO DA COMIDA.
- (D) COMER BEM É COMER MUITO.

HISTÓRIA

1- ITAPERUNA SOFREU TRANSFORMAÇÕES COM O PASSAR DO TEMPO. OBSERVE AS IMAGENS E MARQUE A RESPOSTA CERTA.



- (A) PRÉDIOS FORAM CONSTRUÍDOS.
- (B) A CIDADE NÃO DESENVOLVEU COM O PASSAR DO TEMPO.
- (C) NA PAISAGEM ATUAL NÃO TEM ÁRVORES.
- (D) A CICLOVIA JÁ EXISTIA NA FOTO ANTIGA.

2- OS GRUPOS A SEGUIR FAZEM PARTE DA COMUNIDADE. QUAIS OS ESPAÇOS DE CONVIVÊNCIA QUE ESTÃO FREQUENTANDO?



- (A) FAMÍLIA - MORADORES DE UMA RUA
- (B) FAMÍLIA – PESSOAS QUE FREQUENTAM UMA IGREJA
- (C) ALUNOS DE UMA ESCOLA – PESSOAS QUE FREQUENTAM UM CLUBE
- (D) MORADORES DE UMA RUA – ALUNOS DE UMA ESCOLA

GEOGRAFIA

1- O Brasil está dividido em cinco regiões (Norte, Nordeste, Centro-Oeste, Sudeste e Sul) com vinte e seis Estados e um Distrito Federal.

- ✓ EM QUAL ESTADO BRASILEIRO A CIDADE DE ITAPERUNA ESTÁ LOCALIZADA?



- (A) ESPÍRITO SANTO
- (B) MINAS GERAIS
- (C) RIO DE JANEIRO
- (D) SÃO PAULO

2- NO BRASIL EXISTEM VÁRIOS PROBLEMAS AMBIENTAIS.

✓ PODEMOS REALIZAR VÁRIAS AÇÕES PARA CONSERVAR O MEIO AMBIENTE, COMO:



(A) DAR ALIMENTOS AOS ANIMAIS EM PARQUES E ZOOLOGICOS.

(B) LEVAR ANIMAIS DA FLORESTA PRA CASA.

(C) DEPOSITAR O LIXO EM LOCAL ADEQUADO.

(D) DESCARTAR O LIXO NO RIO MAIS PRÓXIMO.

EDUCAÇÃO DE JOVENS E ADULTOS - EJA
SIMULADO DIAGNÓSTICO FASES IV E V
MATEMÁTICA - CIÊNCIAS

DATA: 30/06/2021

VALOR: 20 PONTOS

MATEMÁTICA

1- NA COMPRA DE PRODUTOS DE HIGIENE PESSOAL, GASTEI 130 REAIS. PAGUEI COM 150 REAIS. QUANTO RECEBI DE TROCO?



(A) 20 REAIS

(B) 30 REAIS

(C) 15 REAIS

(D) 10 REAIS

2- NO SUPERMERCADO, O LITRO DE ÁLCOOL EM GEL CUSTA 25 REAIS. QUANTO GASTAREI SE COMPRAR 3 LITROS?

(A) 55 REAIS

(B) 50 REAIS

(C) 75 REAIS

(D) 70 REAIS



3- AS ATIVIDADES FÍSICAS CONTRIBUEM PARA UMA VIDA SAUDÁVEL E EM EQUILÍBRIO.

✓ UM ATLETA DESEJA DAR UMA VOLTA EM TORNO DE UM CAMPO DE FUTEBOL COMO MOSTRA A FIGURA ABAIXO.



• CALCULE O PERÍMETRO DO CAMPO PARA SABER QUANTOS METROS ELE VAI PERCORRER.

- (A) 420 METROS
- (B) 320 METROS
- (C) 240 METROS
- (D) 400 METROS

4- OBSERVE A FIGURA ABAIXO E RESPONDA.



✓ QUE POSIÇÃO OCUPA A MULHER COM O GUARDA-CHUVA?

- (A) NONO LUGAR
- (B) DÉCIMO LUGAR
- (C) DÉCIMO PRIMEIRO LUGAR
- (D) DÉCIMO SEGUNDO LUGAR

5- ESSAS INFORMAÇÕES FORAM CONCEDIDAS PELO MINISTÉRIO DO MEIO AMBIENTE PARA INCENTIVAR O CONSUMO CONSCIENTE DE ÁGUA, EVITANDO ASSIM O DESPÉRDICIO.

Consumo de doméstico de água por atividade	
Atividade	Quantidade (em litros)
1 descarga no WC	10 a 16
1 minuto de chuveiro	15
1 tanque com água	150
1 lavagem de mãos	3 a 5
1 lavagem com máquina de lavar	150
1 lavagem com lava-louça	20 a 25
Escovar os dentes com água corrente	11
Lavagem do automóvel com mangueira	100

Fonte: Disponível em: <https://www.mma.gov.br/estruturas/secex_consumo/_arquivos/3%20-%20mcs_agua.pdf>. Acesso em 27 de Fevereiro de 2020.

✓ EM UMA LAVAGEM COM A MÁQUINA DE LAVAR SÃO CONSUMIDOS 150 LITROS DE ÁGUA. QUANTOS LITROS SÃO CONSUMIDOS EM 2 LAVAGENS?

- (A) 300 LITROS
- (B) 400 LITROS
- (C) 250 LITROS
- (D) 320 LITROS



6- COM BASE NOS DADOS DA TABELA, UMA FAMÍLIA PODE DESPERDIÇAR 20 LITROS DE ÁGUA POR DIA COM UMA TORNEIRA EM GOTEJAMENTO MÉDIO.

Gotejamento lento ¹	10 litros por dia
Médio ²	20 litros por dia
Rápido ³	32 litros/dia

✓ QUANTOS LITROS DE ÁGUA SERÃO DESPERDIÇADOS SE ESSA TORNEIRA GOTEJAR DURANTE 3 DIAS?

- (A) 50 LITROS
- (B) 40 LITROS
- (C) 80 LITROS
- (D) 60 LITROS

CIÊNCIAS

1- LEITURA DE IMAGEM.

✓ QUAL MENSAGEM A IMAGEM NOS MOSTRA?



- (A) CUIDE DA ALIMENTAÇÃO.
- (B) USE TÊNIS CONFORTÁVEIS E SE ALIMENTE BEM.
- (C) COMPRE TÊNIS E FRUTAS.
- (D) PRATIQUE ATIVIDADE FÍSICA E TENHA UMA ALIMENTAÇÃO SAUDÁVEL.

2- PARA MANTER A HIGIENE ALIMENTAR É IMPORTANTE:

- (A) COMER EM VÁRIOS HORÁRIOS.
- (B) NÃO IMPORTAR COM A DATA DE VALIDADE DOS ALIMENTOS.
- (C) LAVAR FRUTAS E VERDURAS ANTES DE INGERIR.
- (D) COMER DEPRESSA, SEM SABOREAR OS ALIMENTOS.

3- HÁBITOS DE **HIGIENE PESSOAL** SÃO OS CUIDADOS QUE DEVEMOS TER COM O NOSSO CORPO.

✓ MARQUE A OPÇÃO QUE NÃO REPRESENTA A HIGIENE PESSOAL.

- (A) TOMAR BANHO TODOS OS DIAS.
- (B) CORTAR E LIMPAR AS UNHAS.
- (C) MANTER A CASA ORGANIZADA.
- (D) ESCOVAR OS DENTES APÓS AS REFEIÇÕES.

4- A DENGUE É UM PROBLEMA EM GRANDE PARTE DO MUNDO. O QUE PODEMOS FAZER PARA AJUDAR A ACABAR COM ESSA DOENÇA?

- (A) DEIXAR O LIXO ABERTO.
- (B) DEIXAR OS PRATINHOS DE VASOS DE PLANTAS COM ÁGUA.
- (C) DEIXAR OS RALOS DESTAMPADOS.
- (D) TAMPAR AS CAIXAS D'ÁGUA.

