



PREFEITURA MUNICIPAL DE ITAPERUNA  
SECRETARIA MUNICIPAL DE EDUCAÇÃO  
GESTÃO PEDAGÓGICA

**EDUCAÇÃO DE JOVENS E ADULTOS – EJA**

**FASE I - MÓDULO IV DE APRENDIZAGEM REMOTA**

**03 A 31 DE MAIO DE 2021**

ESCOLA: \_\_\_\_\_

ALUNO: \_\_\_\_\_

**OLÁ CARO ALUNO E PROFESSOR DA REDE MUNICIPAL DE  
EDUCAÇÃO DE ITAPERUNA!**

**NESTE MOMENTO, É IMPORTANTE QUE CONTINUEMOS EM  
CASA, OBEDECENDO AS DETERMINAÇÕES QUE VISAM NOSSA SAÚDE.**

**MESMO ASSIM, NOSSOS ESTUDOS  
CONTINUARÃO POR MEIO DOS MÓDULOS  
DE APRENDIZAGEM.**

**É MUITO IMPORTANTE QUE OS ALUNOS  
TENTEM RESOLVER OS EXERCÍCIOS EM  
CASA.**

**CASO HAJA ALGUMA DÚVIDA, PEÇAM  
ESCLARECIMENTOS PELO WHATSAPP.**

**VAMOS TER FÉ E ESPERANÇA EM DIAS MELHORES!**

**VAI PASSAR! SE CUIDEM!**

**SOMOS A EDUCAÇÃO QUE TRANSFORMA!**



**EIXO NORTEADOR:  
MINHA CIDADE TEM HISTÓRIA E EU TAMBÉM**

**AULA 01 -03/05/2021**

VOCÊ CONHECE OU JÁ OUVIU O HINO DE ITAPERUNA?

1 - COM AJUDA DE OUTRA PESSOA, TENDE LER A LETRA DA MÚSICA:

**MINHA CIDADE**

MINHA CIDADE QUERIDA  
CHEIA DE ENCANTOS SEM PAR,  
FLORESCE EM TI MINHA VIDA,  
MEUS BELOS SONHOS, MEU LAR  
AMO-TE E SEMPRE HEI DE AMAR  
TUDO O QUE FALA DE TI.  
OUÇO A VOZ DO TEU RIO  
MURMURANTE NO ARREPIO  
DO VENTO A CANTAR!

AMO A SUAVE CARÍCIA  
DO TEU SUBLIME LUAR.  
TUDO AQUI FALA DE SONHO  
E A GENTE FICA A SONHAR.  
QUERO VIVER NA DELÍCIA  
DESTES TEUS CAMPOS EM FLOR.  
ITAPERUNA, EM TI PONHO  
TODO O MEU SONHO DE AMOR.



MARIA CATHARINA PINTO

2 - CIRCULE O NOME DA COMPOSITORA DO HINO DE ITAPERUNA.

3 - PINTE OS ESPAÇOS ENTRE AS PALAVRAS DO TEXTO.

4 - SUBLIQUE NA LETRA DO HINO A PALAVRA ITAPERUNA

5 - VAMOS LER O NOME DA CIDADE EM QUE MORAMOS:

**ITAPERUNA**

6 – ESCREVA DA PALAVRA ACIMA

→ A LETRA INICIAL \_\_\_\_\_ A LETRA FINAL \_\_\_\_\_

→ QUAIS SÃO AS VOGAIS? \_\_\_\_\_

→ QUAIS SÃO AS CONSOANTES? \_\_\_\_\_

→ QUANTAS LETRAS HÁ NA PALAVRA? \_\_\_\_\_

→ AGORA, SEPRE EM SÍLABAS

**AULA 02 – 04/05/2021**

1 – ESCREVA SEU NOME COMPLETO CONFORME SUA FICHA:

---

2 - LEIA A FRASE DE BOAS-VINDAS EM NOSSA CIDADE:



- AGORA DESTAQUE O NOME DA CIDADE QUE APARECE NA IMAGEM:


- 
- SUBSTITUA O DESENHO PELA PALAVRA:

GUARDE NO  O AFETO DESTE POVO ACOLHEDOR.

---

3- A PALAVRA ITAPERUNA TEM A LETRA INICIAL: \_\_\_\_\_

4 – ENCONTRE NO QUADRO E CIRCULE AS DIVERSAS FORMAS DE ESCREVER A LETRA I:



5– ENCONTRE E ESCREVA PALAVRAS INICIADAS PELA LETRA I:

---

---

**AULA 03 – 05/05/2021**

1 – VEJA O CARTÃO ABAIXO E INDIQUE:



→ PRA QUEM É ESTE CARTÃO? \_\_\_\_\_

→ QUANTOS ANOS A CIDADE ESTÁ COMPLETANDO ESTE MÊS? \_\_\_\_\_

→ QUAL A DATA DO ANIVERSÁRIO DE ITAPERUNA? \_\_\_\_\_

→ FALTA QUANTOS ANOS PARA ITAPERUNA FAZER 150 ANOS? \_\_\_\_\_

**AULA 04 – 06/05/2021**

1 - OBSERVE ALGUMAS FOTOS ANTIGAS DE ITAPERUNA:



→ VOCÊ RECONHECE ALGO QUE AINDA TEMOS EM NOSSA CIDADE? \_\_\_\_\_

→ O QUE AINDA PERMANECE? \_\_\_\_\_



CARDOSO MOREIRA DÉCADA 30/40

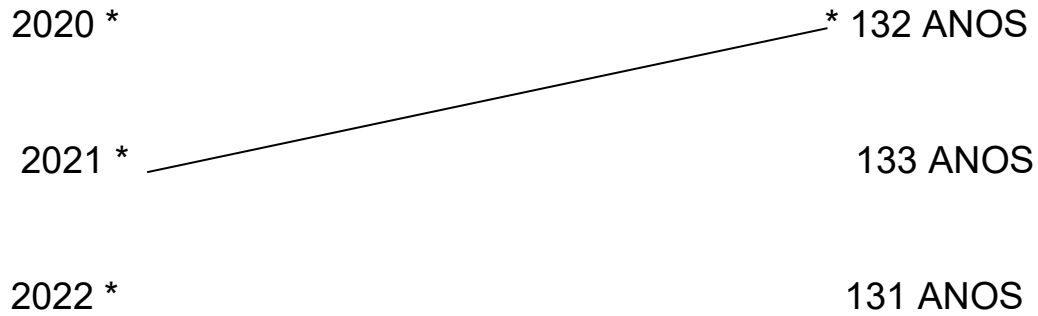


## AULA 05 – 07/05/2021

1) DESCUBRA O PADRÃO DA SEQUÊNCIA NUMÉRICA E COMPLETE:



2 – RELACIONE CADA ANIVERSÁRIO DE ITAPERUNA COM O ANO CORRESPONDENTE:



3 – CIRCULE NO CALENDÁRIO ABAIXO A DATA DO ANIVERSÁRIO DE ITAPERUNA:

Maio 2021						
Domingo	Segunda-feira	Terça-feira	Quarta-feira	Quinta-feira	Sexta-feira	Sábado
						1
2	3	4	5	6	7	8
9	10	11	12	13	14	15
16	17	18	19	20	21	22
23	24	25	26	27	28	29
30	31					

Calendários Michel Zbinden / 6ZDS


SOBRE O ANIVERSÁRIO DA CIDADE, OBSERVE O CALENDÁRIO E INDIQUE:

- O MÊS DO ANIVERSÁRIO DA NOSSA CIDADE \_\_\_\_\_
- O DIA DO MÊS \_\_\_\_\_
- O DIA DA SEMANA \_\_\_\_\_

AINDA SOBRE O MÊS DE MAIO:

- QUANTOS DIAS HÁ NESTE MÊS? \_\_\_\_\_
- QUANTAS SEMANAS COMPLETAS? \_\_\_\_\_
- QUAL O PRIMEIRO DIA DA SEMANA? \_\_\_\_\_
- UMA SEMANA TEM QUANTOS DIAS? \_\_\_\_\_

QUAL O MÊS DO SEU ANIVERSÁRIO? PESQUISE EM UM CALENDÁRIO.



## #SOUPARTEDESSAHISTÓRIA

1 -QUANDO USAMOS # NA REDES SOCIAIS AS PALAVRAS SÃO ESCRITAS TODAS JUNTAS. COM UM LÁPIS DE COR, DÊ UM RISCO PARA SEPARAR AS PALAVRAS NA FRASE.

- REESCREVA A FRASE COM O ESPAÇAMENTO CORRETO:



2 – O QUE VOCÊ MAIS GOSTA EM NOSSA CIDADE? DESENHE E ESCREVA DO SEU JEITO:

3 – COMO HOJE É ANIVERSÁRIO DE ITAPERUNA, FAÇA DO SEU JEITO, UM LINDO CARTÃO PARA HOMENAGEAR A CIDADE. NÃO ESQUEÇA DE COLOCAR NO FINAL SEU NOME E DATA.



**AULA 07 – 11/05/2021**

1 – ESTE É O MAPA DO ESTADO DO RIO DE JANEIRO, LOCALIZE NO MAPA E PINTE DE VERMELHO A CIDADE DE ITAPERUNA:



2 – ESCREVA O NOME DO BAIRRO OU DISTRITO ONDE VOCÊ MORA:

3- OBSERVE QUANTAS CIDADES ESTÃO PRÓXIMAS A ITAPERUNA, OU SEJA, FAZEM DIVISA COM NOSSA CIDADE. PEÇA ALGUÉM QUE TE AJUDE A LER:



VOCÊ CONHECE ALGUMA DESSAS CIDADES?

- COPIE O NOME DE ALGUMA DESSAS CIDADES VIZINHAS QUE VOCÊ CONHECE.

---

---

4 – ENCONTRE NO MAPA E ESCREVA NOME DE CIDADE QUE INICIA COM LETRA I \_\_\_\_\_

LETRA M \_\_\_\_\_ LETRA N \_\_\_\_\_

5 – CONTE E REGISTRE O NÚMERO DE CIDADES QUE SÃO VIZINHAS À ITAPERUNA: \_\_\_\_\_

# AULA 08 – 12/05/2021

## 1 - OBSERVE A CONTA DE LUZ:

\* IDENTIFIQUE NA CONTA DE LUZ NOME DO MORADOR E O ENDEREÇO.

\* CIRCULE A DATA DE VENCIMENTO.

\* PINTE O TOTAL A PAGAR.

## AGORA PEGUE UMA CONTA DE LUZ DE SUA RESIDÊNCIA E ESCREVA:

- O NOME DO RESPONSÁVEL PELA CONTA DE LUZ \_\_\_\_\_
- NOME DA RUA \_\_\_\_\_
- NÚMERO DA CASA \_\_\_\_\_ DATA DO VENCIMENTO \_\_\_\_\_
- BAIRRO: \_\_\_\_\_ CIDADE \_\_\_\_\_
- VALOR A SER PAGO: \_\_\_\_\_
- O VALOR DA SUA CONTA É MAIOR OU MENOR QUE O VALOR DA CONTA ACIMA, NO MODELO? \_\_\_\_\_
- NO MODELO TEMOS A DATA PARA PAGAMENTO 10/02/2021, SENDO 10 O DIA, 02 O MÊS E 2021 O ANO. O MÊS DESTA CONTA SE REFERE A FEVEREIRO. ESCREVA O MÊS REFERENTE A SUA CONTA \_\_\_\_\_

## 2 - USE O CALENDÁRIO ABAIXO PARA CONSULTA:

2021

JANEIRO	FEVEREIRO	MARÇO	ABRIL
D S T Q Q S S 1 - INÍCIO DO ANO 1 2 3 4 5 6 7 8 9 10 11 12 13 14 15 16 17 18 19 20 21 22 23 24 25 26 27 28 29 30 31 4 - MING. 13 - NOVA 19 - CRESC. 28 - CHEIA	D S T Q Q S S 1 2 3 4 5 6 7 8 9 10 11 12 13 14 15 16 17 18 19 20 21 22 23 24 25 26 27 28 15 - CARNAVAL 16 - MING. 11 - NOVA 19 - CRESC. 27 - CHEIA	D S T Q Q S S 1 2 3 4 5 6 7 8 9 10 11 12 13 14 15 16 17 18 19 20 21 22 23 24 25 26 27 28 29 30 31 8 - DIA DA MULHER 29 - INÍCIO DO QUINZÃO 5 - MING. 13 - NOVA 19 - CRESC. 28 - CHEIA	D S T Q Q S S 2 - INÍCIO DE CRISTO 4 - PASCOA 1 2 3 5 6 7 8 9 10 11 12 13 14 15 16 17 18 19 20 21 22 23 24 25 26 27 28 29 30 4 - MING. 11 - NOVA 19 - CRESC. 27 - CHEIA
MAIO	JUNHO	JULHO	AGOSTO
D S T Q Q S S 1 - DIA DO TRABALHADOR 9 - DIA DAS MÃES 1 2 3 4 5 6 7 8 9 10 11 12 13 14 15 16 17 18 19 20 21 22 23 24 25 26 27 28 29 30 31 1 - MING. 11 - NOVA 19 - CRESC. 26 - CHEIA	D S T Q Q S S 3 - CORPUS CRISTI 1 2 3 4 5 6 7 8 9 10 11 12 13 14 15 16 17 18 19 20 21 22 23 24 25 26 27 28 29 30 15 - ANIVERSÁRIO 16 - MING. 11 - NOVA 19 - CRESC. 24 - CHEIA	D S T Q Q S S 1 2 3 4 5 6 7 8 9 10 11 12 13 14 15 16 17 18 19 20 21 22 23 24 25 26 27 28 29 30 31 1 - MING. 8 - NOVA 17 - CRESC. 23 - CHEIA 31 - MING.	D S T Q Q S S 1 2 3 4 5 6 7 8 9 10 11 12 13 14 15 16 17 18 19 20 21 22 23 24 25 26 27 28 29 30 31 8 - DIA DOS PAIS 1 - NOVA 15 - CRESC. 22 - CHEIA 30 - MING.
SETEMBRO	OUTUBRO	NOVEMBRO	DEZEMBRO
D S T Q Q S S 7 - INDEPENDÊNCIA DO BRASIL 1 2 3 4 5 6 7 8 9 10 11 12 13 14 15 16 17 18 19 20 21 22 23 24 25 26 27 28 29 30 22 - INÍCIO DA PRIMAVERA 8 - NOVA 13 - CRESC. 19 - CHEIA 28 - MING.	D S T Q Q S S 12 - NOSSA SRA APARECIDA 12 - DIA DA CRIANÇA 1 2 3 4 5 6 7 8 9 10 11 12 13 14 15 16 17 18 19 20 21 22 23 24 25 26 27 28 29 30 31 6 - NOVA 13 - CRESC. 19 - CHEIA 28 - MING.	D S T Q Q S S 1 2 3 4 5 6 7 8 9 10 11 12 13 14 15 16 17 18 19 20 21 22 23 24 25 26 27 28 29 30 2 - FIM DOS 19 - PRINCE DA REPÚBLICA 30 - CONSCIÊNCIA NEGRA 4 - NOVA 11 - CRESC. 19 - CHEIA 27 - MING.	D S T Q Q S S 21 - INÍCIO DO VERÃO 25 - NATAL 5 6 7 8 9 10 11 12 13 14 15 16 17 18 19 20 21 22 23 24 25 26 27 28 29 30 31 4 - NOVA 11 - CRESC. 19 - CHEIA 28 - MING.

\*UM ANO TEM QUANTOS MESES?  
\_\_\_\_\_

\* QUAL O PRIMEIRO MÊS DO ANO?  
\_\_\_\_\_

\* E O ÚLTIMO MÊS DO ANO?  
\_\_\_\_\_

\* ESCREVA OS MESES QUE POSSUEM 31 DIAS:  
\_\_\_\_\_  
\_\_\_\_\_  
\_\_\_\_\_



# AULA 09 – 13/05/2021

1 – ESCREVA SEU NOME COMPLETO:

---

2 – FAÇA A LEITURA DE CADA LETRA DO ALFABETO:

A	B	C	D	E	F
G	H	I	J	K	L
M	N	O	P	Q	R
S	T	U	V	W	X
Y	Z				

\* PINTE DE VERMELHO A LETRA INICIAL DO SEU NOME.


\* PINTE DE VERDE AS VOGAIS (A, E, I, O, U).

\* CIRCULE AS CONSOANTES.

\* REGISTRE QUANTAS LETRAS HÁ EM NOSSO ALFABETO: \_\_\_\_\_

\* RECORTE DE REVISTAS, ENCARTES OU LIVROS QUE VOCÊ NÃO USA MAIS, PALAVRAS INICIADAS POR VOGAIS:

3 – PINTE AS PALAVRAS QUE ENCONTRAR NO CAÇA-PALAVRAS:



M	A	B	A	C	A	X	I	S	P
N	C	L	A	B	E	L	H	A	O
G	B	N	E	S	C	A	D	A	K
V	I	E	S	Q	U	I	L	O	P
Q	W	I	S	O	P	O	R	O	P
I	O	G	U	R	T	E	K	L	M
A	Q	O	V	E	L	H	A	S	E
D	O	S	S	O	E	F	R	G	T
U	V	A	P	L	O	J	U	G	T
F	R	D	U	R	U	B	U	E	S

**AULA 10 – 14/05/2021**

1 – OBSERVE AS MARCAS DE ALGUMAS LOJAS EM NOSSA CIDADE:



\*VOCÊ CONHECE ALGUMA DESSAS LOJAS?

\* O QUE ELAS TÊM EM COMUM?

\* QUAL A LETRA INICIAL DESSAS LOJAS? \_\_\_\_\_


2 – COMPLETE COM AS LETRAS B OU P E DEPOIS REGISTRE NO QUADRADINHO A QUANTIDADE DE LETRAS QUE CADA PALAVRA POSSUI :



CO \_\_\_\_ O



\_\_\_\_OR\_\_\_\_OLETA



CA \_\_\_\_ IDE



\_\_\_\_OLO



\_\_\_\_ALHAÇO



\_\_\_\_I\_\_\_\_A

3 – VAMOS CANTAR?

MEU ABRIGO

MELIM

DESEJO A VOCÊ  
O QUE HÁ DE MELHOR  
A MINHA COMPANHIA  
PRA NÃO SE SENTIR SÓ

O SOL, A LUA E O MAR  
PASSAGEM PRA VIAJAR  
PRA GENTE SE PERDER  
E SE ENCONTRAR



ESTA MÚSICA FOI ESCRITA EM  
FORMA DE POEMA.

- \* CIRCULE O TÍTULO DA MÚSICA.
- \* ESCREVA O NOME DE 3 (TRÊS) ELEMENTOS DA NATUREZA QUE APARECEM NA MÚSICA.



QUANTAS LETRAS ESSAS PALAVRAS TÊM? \_\_\_\_\_

\* ESCOLHA UMA DESSAS PALAVRAS E FORME UMA FRASE:

\* E PRA VOCÊ, QUAL A MELHOR COMPANHIA? \_\_\_\_\_

**AULA 11 – 17/05/2021**

1 - LEIA A TIRINHA



- VOCÊ CONSEGUIU ENTENDER A HISTÓRIA? ( ) SIM ( ) NÃO
- ESCREVA O TÍTULO DA HISTÓRIA? \_\_\_\_\_
- QUAIS OS ANIMAIS QUE APARECEM NA TIRINHA?
- COMPLETE COM AS VOGAIS (A,E,I,O,U) E LEIA O NOME DE CADA ANIMAL:



G ..... T.....



R.....T.....



C.....CH.....RR.....

2 – LEIA AS PLACAS ABAIXO E LIGUE NO SIGNIFICADO DA IMAGEM:



• RESTAURANTE



• PONTO DE ÔNIBUS



• WI - FI

## AULA 12 – 18/05/2021

1 – NO MÊS DE MAIO TAMBÉM COMEMORAMOS O DIA DO TRABALHO. COM AJUDA DE ALGUÉM LEIA O POEMA:

### PROFISSÕES


EXISTEM NO MUNDO  
VÁRIOS TIPOS DE PROFISSÃO.  
TODAS TÊM SEU VALOR  
SE TRABALHADAS COM AMOR.

O PADEIRO FAZ O PÃO,  
O DENTISTA CUIDA DO DENTE,  
O PEDREIRO FAZ A CONSTRUÇÃO  
E O MÉDICO CUIDA DA GENTE.

O PINTOR A PAREDE PINTA,  
O VIGIA, A EMPRESA VIGIA,  
O PROFESSOR TUDO NOS ENSINA  
E A COZINHEIRA COZINHA.

A COSTUREIRA COSTURA,  
O POLICIAL ESTÁ ATENTO NA VIATURA,  
O POETA É UM ARTISTA,  
E TODOS PARTICIPAM DA VIDA!

*Regina Villaça*



- CIRCULE NO TEXTO, PROFISSÕES INICIADAS COM AS LETRAS APRESENTADAS NO QUADRO ABAIXO E ESCREVA-AS:

C	D	M	P	V



## AULA 13 – 19/05/2021

- ESCREVA NO QUADRO ABAIXO QUAL PROFISSÃO OU ATIVIDADE VOCÊ EXERCE. PARA FICAR MAIS INTERESSANTE, DESENHE OU COLE UMA IMAGEM QUE RETRATE O SEU TRABALHO.



### 1 – ENCONTRE ALGUMAS PROFISSÕES NO CAÇA-PALAVRA:

B	I	V	M	J	D	O	U	M	O
N	P	R	O	F	E	S	S	O	R
A	D	X	T	B	N	B	Q	P	A
T	M	K	O	O	T	P	T	O	X
O	E	M	R	M	I	E	A	L	M
R	S	X	I	B	S	H	X	I	É
S	I	O	S	E	T	U	I	C	D
F	O	Z	T	I	A	C	S	I	I
P	D	I	A	R	I	S	T	A	C
G	A	R	Ç	O	M	F	A	L	O

ATOR  
BOMBEIRO  
DENTISTA  
DIARISTA  
GARÇOM  
MÉDICO  
MOTORISTA  
POLICIAL  
PROFESSOR  
TAXISTA

- VOCÊ GOSTARIA DE TER ALGUMA DAS PROFISSÕES ACIMA? \_\_\_\_\_
- QUAL? \_\_\_\_\_

## AULA 14 – 20/05/2021

1- VEJA O ENCARTE PROMOCIONAL DE UM SUPERMERCADO. O PREÇO REFERE A CADA 1KG (QUILOGRAMA) DE CARNE. AGORA ESCREVA:



- NOME DO MERCADO: \_\_\_\_\_
- EM QUE DIA DA SEMANA OCORRE A PROMOÇÃO? \_\_\_\_\_
- QUAL O PRODUTO MAIS CARO? \_\_\_\_\_
- E QUAL O PRODUTO MAIS BARATO? \_\_\_\_\_
- QUANTO PAGAREI SE COMPRAR 1KG DE PICANHA E 1KG DE LOMBO?

- QUAL A DIFERENÇA DE PREÇO ENTRE A COSTELINHA E O FILÉ DE FRANGO? \_\_\_\_\_
- OBSERVE O PREÇO NO ENCARTE E CALCULE:

QUANTIDADE	TOTAL A PAGAR
5KG DE FILÉ DE FRANGO	
4KG DE COSTELINHA	
3KG DE LOMBO	
2 KG DE PICANHA	

**AULA 15 – 21/05/2021**

1 – ESCREVA A LETRA INICIAL DE CADA PROFISSÃO:



\_\_\_\_\_OMBEIRO



\_\_\_\_\_OLICIAL



\_\_\_\_\_EDREIRO



\_\_\_\_\_AXINEIRA



\_\_\_\_\_OTORISTA



\_\_\_\_\_ONFEITEIRA

2 – CONTE E REGISTRE NO CÍRCULO O NÚMERO DE LETRAS DAS PROFISSÕES ABAIXO:

PROFESSOR

JARDINEIRO

MARCENEIRO

CABELEIREIRA

BARBEIRO

ELETRICISTA

QUAL DESSAS PROFISSÕES TÊM O MAIOR NÚMERO DE LETRAS?

\_\_\_\_\_

QUAIS PROFISSÕES TÊM O MESMO NÚMERO DE LETRAS?

\_\_\_\_\_

\_\_\_\_\_

**AULA 16 – 24/05/2021**


1 – LIGUE O LOCAL ONDE CADA PESSOA DA IMAGEM TRABALHA:



**ESCOLA**



**LOJA**



**HOSPITAL**

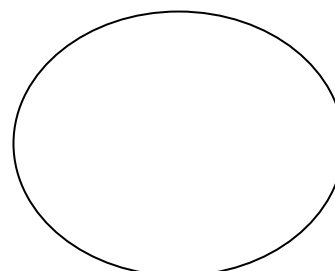


**BANCO**

3 – OBSERVE OS NÚMEROS DE CADA LOJA E PONHA-OS EM ORDEM DECRESCENTE (DO MAIOR PARA O MENOR):



4 – QUAL A QUANTIA EM DINHEIRO ESTÁ REPRESENTADA ABAIXO?





**AULA 17 – 25/05/2021**

PRECISAMOS CUIDAR BEM DE NÓS E DO AMBIENTE QUE NOS CERCA.

1- VEJA A IMAGEM E CIRCULE O O AUTOCUIDADO QUE VOCÊ PRÁTICA PARA CUIDAR DA MENTE:

**AUTOCUIDADOS**  
para sua mente  
[www.manualdohomemmoderno.com.br](http://www.manualdohomemmoderno.com.br)



aprenda a descansar



aprecie a natureza



faça o que você gosta



controle sua respiração



lembre de tomar um pouco de sol

2 – PODEMOS UTILIZAR EMOJIS PARA NOS COMUNICAR. EMOJIS SÃO MUITO USADOS EM REDES SOCIAIS (WHATSAPP, FACEBOOK, INSTAGRAM).

ESCREVA O SIGNIFICADO DE ALGUNS EMOJIS DO CARTAZ:

**Pequenos Prazeres da Vida**

 Flores	 Tomar sol	 Carinho
 Som da chuva	 Livros	 Sonecas
 Lençóis limpos	 Presentes	 Bichos
 Sobremesas	 Chás	 Meias fofas

CULTIVANDO SAÚDE



\_\_\_\_\_



\_\_\_\_\_



\_\_\_\_\_



\_\_\_\_\_

3 – ESCOLHA UM EMOJI QUE EXPRESSE SEU SENTIMENTO NO DIA DE HOJE E DEPOIS ESCREVA SUA EMOÇÃO:



ALEGRE



TRISTE

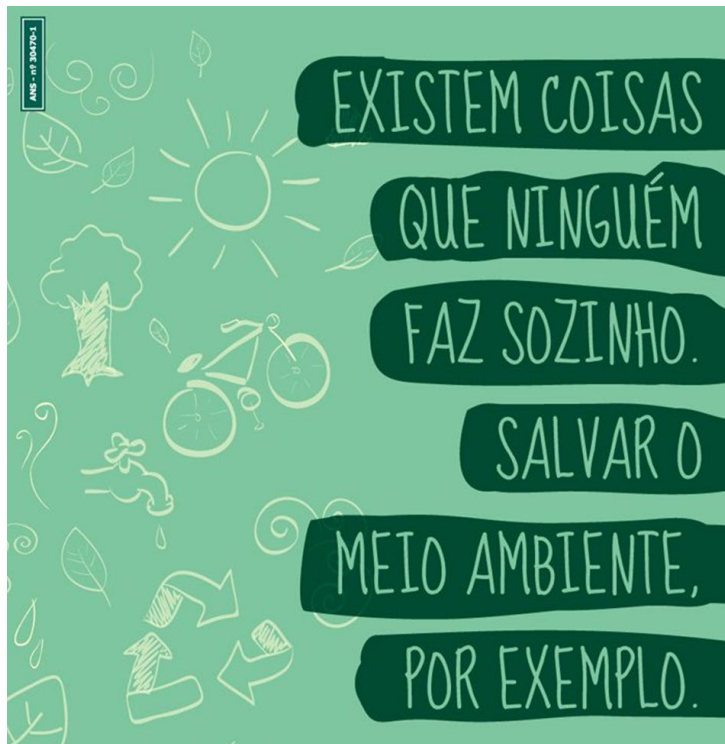


COM RAIVA

\_\_\_\_\_

## AULA 18 – 26/05/2021

1 – OBSERVE O CARTAZ:



• CIRCULE NO TEXTO PALAVRAS INICIADAS POR VOGAIS (A,E,I, O, U) E ESCREVA-AS:

---

---

---

PROCURE NO TEXTO E ESCREVA PALAVRAS INICIADAS COM AS LETRAS:

C \_\_\_\_\_  
S \_\_\_\_\_  
N \_\_\_\_\_  
M \_\_\_\_\_

2 – LEIA A IMAGEM COM AJUDA DE ALGUÉM E REESCREVA A FRASE QUE VOCÊ PRÁTICA PARA AJUDAR O MEIO AMBIENTE:



---

---

---

---

3 – REUTILIZO GARRAFA PET PARA POR ÁGUA NA GELADEIRA. COM UM GALÃO DE 20 LITROS CONSIGO ENCHER QUANTAS GARRAFAS DE 2 LITROS?



**AULA 19 – 27/05/2021**

1 – ITAPERUNA ESTÁ LOCALIZADA NO ESTADO DO RIO DE JANEIRO. PINTE O ESTADO DO RIO DE JANEIRO (RJ) NO MAPA DO BRASIL:




2 – OBSERVE A BANDEIRA NACIONAL:




\* REESCREVA A FRASE:

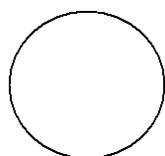
\* FORMAS GEOMÉTRICAS PLANAS



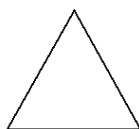
QUADRADO



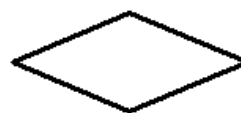
RETÂNGULO



CÍRCULO



TRIÂNGULO



LOSANGO

\* QUAIS AS FORMAS GEOMÉTRICAS PLANAS ENCONTRADAS NA BANDEIRA DO BRASIL?

**AULA 20 – 28/05/2021**

1 – OBSERVE OS QUADROS ABAIXO. ESSAS SÃO ALGUMAS DAS OBRAS DE TARSILA DO AMARAL. NASCEU EM UMA FAZENDA NO INTERIOR DE SÃO PAULO, EM 1886. SEUS QUADROS FICARAM CONHECIDOS NO MUNDO TODO.



TARSILA DO AMARAL UTILIZAVA CORES VIVAS E MUITAS FORMAS GEOMÉTRICAS EM SUAS OBRAS.

“A GARE” 1925 DE TARSILA DO AMARAL



\* QUAL O NOME DESTA OBRA? \_\_\_\_\_

\* QUEM PINTOU? \_\_\_\_\_

\* EM QUE ANO A OBRA FOI FEITA? \_\_\_\_\_

\* QUAIS FORMAS GEOMÉTRICAS, QUE VOCÊ CONHECE, ESTÃO PRESENTES NESTA OBRA?

\_\_\_\_\_

2- O QUADRO ABAIXO DE TARSILA DO AMARAL CHAMA-SE “A CUCA” E REPRESENTA UM ECOSISTEMA TERRESTRE. SEGUNDO A ARTISTA A OBRA REPRATA” UM BICHO ESQUISITO (**CUCA**), NO MATO COM UM **SAPO**, UM **TATU** E OUTRO BICHO INVENTADO”.



\* ESCREVA O QUE VOCÊ VÊ NA OBRA:

\_\_\_\_\_  
\_\_\_\_\_  
\_\_\_\_\_

\* CRIE UM NOME PARA O BICHO INVENTADO

\_\_\_\_\_





1 – PINTE OS ESPAÇOS ENTRE AS PALAVRAS.

2 – QUANTAS PALAVRAS HÁ NA FRASE? \_\_\_\_\_

3 - COPIE A FRASE:

---

---

4- OLHE O SLOGAN. VOCÊ CONSEGUE ENTENDER A MENSAGEM?



REESCREVA A FRASE SUBSTITUINDO O DESENHO POR PALAVRA:

5 – TEMOS QUE CUIDAR DA NATUREZA, DE NÓS MESMO E DAS PESSOAS QUE NOS CERCAM TAMBÉM.



\* VOCÊ CUIDA DE ALGUÉM ? QUEM?

---

---



\* TEM ALGUM ANIMAL DE ESTIMAÇÃO?

\*CULTIVA ALGO EM SUA CASA? CIRCULE O QUE VOCÊ TEM EM CASA OU GOSTARIA DE TER.

