



EDUCAÇÃO DE JOVENS E ADULTOS – EJA II
FASE VI - III MÓDULO APRENDIZAGEM IMPRESSA
01 A 30 DE ABRIL DE 2021

ESCOLA: _____

ALUNO: _____

É TEMPO DE CELEBRAR A VIDA!

É TEMPO DE PASSAGEM. TEMPO DE RENOVAR A BAGAGEM!

É TEMPO PASCOAL, UM MEMORIAL SEM IGUAL.

É TEMPO DE CELEBRAR O AR QUE RESPIRAMOS, O CHÃO QUE PISAMOS, O PÃO DE CADA DIA E O ESTAR PERTO DA FAMÍLIA.

É TEMPO DE CELEBRAR O SEGUNDO, O MINUTO, O DIA DE VIDA!

É TEMPO DE AMAR O SOL, A CHUVA, O SOLO COMO UM COLO.

É TEMPO DE SER GIRASSOL NA VIDA DE ALGUÉM, SER ALÉM.

É TEMPO DE SORRIR COM UM BEM-TE-VI.

É TEMPO DE OBSERVAR UMA FLOR DESABROCHAR.

É TEMPO DE BOAS ESCOLHAS, SER LEVE COMO AS BOLHAS.

É TEMPO DE ABRAÇAR O TEMPO E SENTIR O VENTO!

É TEMPO DE SER ESTUDANTE E SEGUIR AVANTE.

EIXO NORTEADOR: VIVA a vida!

➔ I SEMANA (01/05 a 09 de ABRIL de 2021)

LÍNGUA PORTUGUESA

Lendo a música

Celebrar!

Dance como se ninguém tivesse te olhando dançar

Cante bem alto embaixo do chuveiro

Se olhe no espelho, se ache legal

Quer saber? A vida é carnaval!



© Can Stock Photo - csp7971663

Tire um dia inteiro pra você

Leia um livro, ligue a TV

Telefone pra quem tem saudade

Faça tudo que quiser fazer

Celebrar!

Como se amanhã o mundo fosse acabar

Tanta coisa boa a vida tem pra te dar

O pensamento leve faz a gente mudar (2x)

Se acostume com a felicidade

Seja inteiro e não pela metade

Jammil e Uma Noites

- 1- Com qual parte da música você mais se identificou? _____
- 2- Qual é o título do texto? _____
- 3- A palavra CELEBRAR quantas letras possui? _____
- 5- Observe e leia o texto abaixo:



Super X-Paraná

- Bacon
- Maionese
- Carne
- Calabresa

RS 15,00

Higiene e qualidade é a nossa prioridade

| | | | |
|--------------|-----------|------------------|-----------|
| Misto Quente | R\$ 5,00 | Misto Quente Big | R\$ 8,00 |
| X- Burger | R\$ 6,00 | X- Burger Big | R\$ 10,00 |
| X- Salada | R\$ 7,00 | X- Salada Big | R\$ 12,00 |
| X- Batata | R\$ 9,00 | X- Batata Big | R\$ 15,00 |
| X- Egg | R\$ 9,00 | X- Egg Big | R\$ 15,00 |
| X- Dog | R\$ 10,00 | X- Dog Big | R\$ 18,00 |

1) O texto é característico do Gênero Textual (tipo de texto):

- (A) "Cartaz".
- (B) "Cardápio".
- (C) "Panfleto".
- (D) "Pôster".

PRODUÇÃO TEXTUAL

Em poucas palavras explique "Como celebrar a vida todos os dias? "

A gratidão pode ser interpretada com um estado de espírito, em que a pessoa reconhece as pequenas conquistas do dia a dia e passa a valorizá-las. Para você é importante ser grato (a)? Explique!


MATEMÁTICA

A vida é muito simples e todas as emoções são fantásticas.

Faça sempre o que gosta e se algo lhe desagrade, mude.

Aprecie cada momento da sua vida. Se estiver comendo, aprecie cada bocado.

E por falar em fazer o que gosta...



1) Numa pesquisa feita entre os estudantes de um colégio sobre a disciplina preferida de cada um, obteve-se o seguinte resultado:

a) Qual foi a disciplina preferida pelos alunos? Com quantos votos? _____

b) Se somarmos os votos de Matemática e Ciências, teremos a mesma quantidade da soma de votos de Educação Física e Português? _____

de votos de Educação Física e Português? _____

Viver a vida intensamente, sempre está ligado ao que nos deixa feliz!!!

2- Luiz é um colecionador de bolas de gude e apaixonado neste jogo. Ontem ele ganhou 24 bolinhas novas de seu primo e ficou com 150 bolinhas. Desse modo, podemos afirmar que, antes de ganhar esse presente de seu primo, Luís tinha:

- a) 124 bolinhas b) 125 bolinhas c) 174 bolinhas d) 126 bolinhas

Na vida, somos uns pelos outros. Precisamos viver como irmão, para tornarmos a vida mais leve!

3 - Rogério é irmão de Joaquim, Luciano e Jefferson, ele economizou de sua mesada, a quantia de R\$ 44,00. Ficarão com R\$20,00 e dividirá o restante entre seus 3 irmãos. Quanto cada irmão receberá?

- a) R\$11,00 b) R\$ 9,00 c) R\$10,00 d) R\$ 8,00

RACIOCÍNIO LÓGICO

Ponto, Reta e Plano

Você já tem ideia intuitiva sobre ponto, reta e plano.

Assim:

Um furo de agulha num papel dá ideia de ponto.

Uma corda bem esticada dá ideia de reta.

Uma folha de papel dá ideia de plano.

Os pontos, a reta e o plano são conceitos primitivos no estudo da Geometria, isto é, não possuem definição.



Ponto – letras maiúsculas do nosso alfabeto: A,B,C,...

Reta – letras minúsculas do nosso alfabeto: a,b,c,...

Plano – letras gregas minúsculas: $\alpha, \beta, \gamma, \dots$

1. Que ideia (ponto, reta ou plano) você tem quando observa:

- a) Uma corda de violão bem esticada. _____
b) Um grão de areia. _____
c) Um campo de futebol. _____

HISTÓRIA

1. Você já parou para pensar que temos horário para tudo: fazer as refeições, ir para a escola, chegar em casa? Quando alguém quer dizer que se atrasou, é comum ouvirmos a expressão “perdi a hora”. Todas as nossas ações estão relacionadas ao tempo. Vivemos em uma época em que o tempo e suas medições são parte importante do cotidiano.

A maneira como cada sociedade conta o tempo está relacionada com seu modo de usá-lo. E assim como existem diversas formas de contar o tempo, há diversos modos de vida convivendo em uma mesma época.

- a) Quais são os objetos que o ser humano usa para medir o tempo? _____
b) Que mudanças acontecem na natureza e que nos fazem perceber a passagem do tempo? _____
c) Qual a importância do calendário? _____

d) O que demora mais para passar: cinco minutos no recreio da escola ou cinco minutos na cadeira de um dentista? Por quê?

GEOGRAFIA

A Geografia estuda o espaço geográfico, ou seja, todo o espaço terrestre produzido pelo homem ou que possui direta ou indireta relação com este. Sendo assim, o estudo das sociedades urbana e rural, o uso e apropriação dos recursos naturais e as dinâmicas naturais fazem parte dos estudos geográficos.

1- O conceito de lugar, para a geografia, é muito importante. Explique-o e cite ao menos dois exemplos de seu espaço de vivência.

2 - Com base nos conceitos de paisagem natural e paisagem humanizada classifique as colunas de acordo com o tipo de paisagem:

(N) Paisagem Natural **(H)** Paisagem Humanizada **(R)** Paisagem Rural
(U) Paisagem Urbana

- a) () É aquela composta por diversos elementos físicos como: solos, rios, relevos e etc.
- b) () É caracterizada por extensas áreas de pastagens e plantações, casas longe da outras.
- c) () Delimita-se pela grande metrópole de concreto e asfalto, com ruas pavimentadas.
- d) () Tem sua estrutura adaptada às necessidades do homem, da produção e sobrevivência.

CIÊNCIAS

Vida, ambiente e diversidade.

O meio ambiente engloba todos os elementos vivos e não-vivos que estão relacionados com a vida na Terra. É tudo aquilo que nos cerca, como a água, o solo, a vegetação, o clima, os animais, os seres humanos, dentre outros.

Meio Ambiente no Brasil

No Brasil, a Política Nacional do Meio Ambiente, Lei nº 6.938, de 31 de Agosto de 1981, define os instrumentos para proteção do meio ambiente. É considerada o marco inicial das ações para conservação ambiental no Brasil. Através dela, o meio ambiente é definido como:

"o conjunto de condições, leis, influências e interações de ordem física e biológica, que permite, abriga e rege a vida em todas as suas formas".

A Política Nacional do Meio Ambiente tem como objetivo a preservação, melhoria e recuperação da qualidade ambiental propícia à vida.

1) Como é definido o meio ambiente pela lei nº 6938/1981?



2) Qual é o objetivo da Política Nacional de Meio Ambiente?

3) O que engloba o Meio Ambiente?

LÍNGUA INGLESA

1) Leia o quadrinho e responda à pergunta a seguir:



a) O cascão está:

() confuso () com medo () perdido

ARTE

Releia a música (Celebrar! Texto de Língua Portuguesa) e ilustre - a com desenhos, recortes ou outros. Use de muitas cores, linhas e for



ENSINO RELIGIOSO

Educação à distância em tempos de pandemia.

Após a suspensão das aulas, como medida de combate à Covid-19, estudantes, pais e professores tiveram que adaptar a rotina de aprendizado ao isolamento social. Os pais, alunos e professores devem estar envolvidos na tarefa de adotar uma nova rotina. A maioria defende as aulas à distância como forma de garantir, em parte, "a normalidade" nesses tempos de pandemia.

1- É possível na sua opinião mesmo a distância reforçar os laços? Justifique:

EDUCAÇÃO FÍSICA

A educação física atua na qualidade de vida das pessoas de forma direta. Os benefícios são inúmeros de caráter físico e também mental. A prática de exercícios vem crescendo entre a sociedade nos últimos anos, com adesão de crianças, jovens, adultos e idosos, basta escolher uma modalidade que combine com você.


1) A famosa "qualidade de vida" tem sido desejada por toda a população. Para isso devemos, mudar nossos hábitos sedentários e adquirir hábitos de nos locomover de bicicleta ou caminhando. Pensando em adquirir uma boa qualidade de vida podemos afirmar :

(A) Para ter uma boa saúde devemos fazer esportes profissionalmente.

(B) Para que o esporte traga saúde, devemos considerar as diferenças pessoais, o tipo e a duração da atividade física.

(C) Ficar em casa vendo programas de esportes faz muito bem a saúde.

(D) A caminhada só faz a pessoa se sentir cansada e suada.

 **II SEMANA (12 a 16 de Abril de 2021)**

LÍNGUA PORTUGUESA


É tempo PASCOAL! Tempo de CELEBRAR a VIDA!

Lenda-narrativa fantasiosa transmitida pela tradição oral através dos tempos. Combinam fatos reais e históricos com fatos irreais



Texto A lenda da Páscoa

Jesus provou seu grande amor quando morreu por nós!



A Páscoa comemora a ressurreição de Jesus Cristo, vida nova! Mas temos um símbolo, muito simpático, que é o coelhinho, com o seu ovo. Muitos perguntam por que, já que a coelha não bota ovos. O ovo é símbolo de nascimento e ressurreição. A lenda conta que Simão, que ajudou Cristo a levar a cruz até o Calvário, era vendedor de ovos. Depois da crucificação, ele percebeu que, como por milagre, os ovos estavam coloridos.

Já o coelho era símbolo de fertilidade no antigo Egito. Assim, o coelho esconde os ovos coloridos em ninhos, para que as crianças possam procurá-los como presentes de Páscoa.

Extraído de “Guias Curiosos” de Marcelo Duarte

1-O que se comemora na Páscoa, segundo o texto?

2-Nele, foram citados dois símbolos da Páscoa. Quais são eles?

3 - **FONEMA** - é o som que forma a vogal ou a consoante ao ser pronunciado / **vogal**= (saída livre pela boca) **consoante**= (saída de ar com obstáculo)

- **lh, ch, nh, xc, ss, rr, sc** (em alguns casos) - contam um único som) – Ex.:folha=5 letras e 4 fonemas.
- **sc,qu,gu** –quando pronunciado separadamente contam fonemas diferentes. Exs.: **escola**= 6 letras e 6 fonemas **água**= 4 letras e 3 fonemas
- o **h** não tem som. Ex.: hora =4 letras e 3 fonemas.

Agora chegou a sua vez! Conte as letras e os fonemas:

coelho - máquina- ninhos- Jesus- hélice - escada- nasceu

PRODUÇÃO TEXTUAL

➤ Que pedido você faria a Jesus nessa Páscoa? Justifique!

MATEMÁTICA

Nem a crise econômica de 2020, que veio a reboque da pandemia, foi capaz de retardar as obras de um dos maiores empreendimentos imobiliários em Maringá, cidade de **430 mil** habitantes no interior do Paraná.

Não é a primeira vez que a cidade ocupa a primeira posição no ranking: Maringá já foi campeã por duas edições consecutivas, em 2017 e 2018. Na última década, Maringá melhorou sua posição em saneamento e **sustentabilidade**, área em que saiu do 7º lugar para o 3º entre 2009 e 2019. Nos últimos cinco anos, foram direcionados cerca de **50 milhões** de reais para melhorias no sistema de água e esgoto, que atende hoje 100% da população.

I - Responda de acordo com o texto:

a) Escreva por extenso, a quantidade de habitantes da cidade de Maringá no ano de 2020.

b) Maringá melhorou em sustentabilidade entre os anos de 2009 e 2019, subindo quantas posições? _____

c) A quantia direcionada a melhorias do sistema de água e esgoto nos últimos anos em Maringá, possui quantos algarismos? Como se escreve essa quantia por extenso? _____

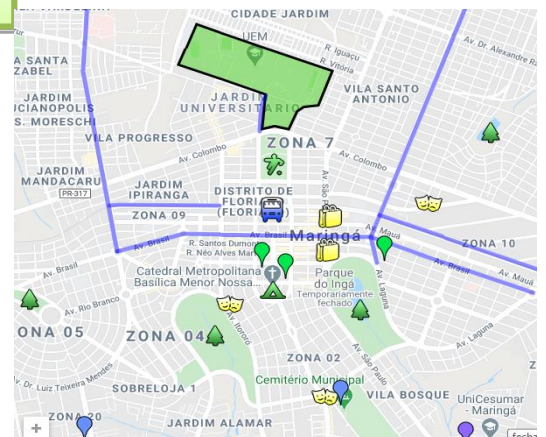
RACIOCÍNIO LÓGICO

Temos ao lado, um mapa de um trecho da Cidade de Maringá.

1- Observando esse mapa, encontre o que se pede:

a) Dois exemplos de ponto. _____

b) Dois exemplos de reta. _____



HISTÓRIA

1) História é a ciência que:

a) estuda os acidentes históricos e geográficos do planeta Terra;

b) se fundamenta unicamente em documentos escritos;

c) estuda os acontecimentos do passado dos homens, utilizando-se dos vestígios que a humanidade deixou;

d) estuda os acontecimentos presentes para prever o futuro da humanidade;

2) Dentre as opções abaixo, qual delas apresenta apenas exemplos de fontes escritas?

a) Diários, jornais e leis. b) Revistas, livros e vestimentas.

c) Pinturas, utensílios domésticos e certidões de nascimento.

GEOGRAFIA

“A Geografia estuda o espaço geográfico, ou seja, todo o espaço terrestre produzido pelo homem ou que possui direta ou indireta relação com este”.

1 - Dê o conceito de geografia.

2--Explique porque o homem provoca mudanças no espaço onde vive.

CIÊNCIAS

Uma vida saudável, depende de vários fatores!

Qual a diferença entre Preservação e Conservação Ambiental?

Os termos preservação e conservação ambiental são constantemente confundidos. Porém, cada um deles possui um significado e objetivos diferentes.

Preservação Ambiental: É a proteção sem a intervenção humana. Significa a natureza intocável, sem a presença do homem e sem considerar o valor utilitário e econômico que possa ter.

Conservação Ambiental: É a proteção com uso racional da natureza, através do manejo sustentável. Permite a presença do homem na natureza, porém, de maneira harmônica.

1-Que nome é dado à proteção da natureza sem intervenção humana?

2-Que nome damos à proteção da natureza, que permite a intervenção humana de forma racional? _____

LÍNGUA INGLESA

1) Responda às perguntas, de acordo com o texto:



MRS. JONES: Good morning. I'm Mrs. Jones.

RAFAEL: Good morning. I'm Rafael.

MRS. JONES: Are you Rafael Costa?

RAFAEL: Yes, I am.

MRS. JONES: Nice to meet you.

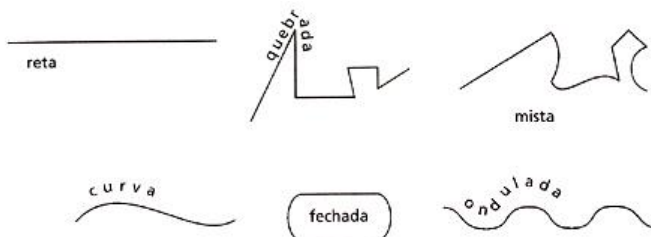
RAFAEL: Nice to meet you too.

a) Em que parte do dia, os alunos vão à escola? _____

b) Quem é Mrs. Jones? _____

ARTE

Quanto à forma a linha pode ser: reta, quebrada, mista, curva, fechada e ondulada.



1-Crie uma obra de arte baseando-se em linhas.

ENSINO RELIGIOSO



“Tu te tornas eternamente responsável por aquilo que cativas.”

Antoine de Saint-Exupéry, escritor e aviator francês.

Hoje é dia de explorar a criatividade. Você pode escrever um texto ou desenhar como você acredita que será o ambiente escolar quando voltarmos para a sala de aula. (Pode usar colagem de gravuras).

EDUCAÇÃO FÍSICA

1) O conceito de saúde abrange não somente o aspecto físico, mas também os aspectos mentais e sociais. Pensando em melhorar nossa saúde o que podemos fazer nesse período onde precisamos estar com nosso organismo fortalecido? _____

EIXO NORTEADOR: SAÚDE NOSSO MAIOR BEM

➔ III SEMANA (19/20 e 22 Abril de 2021)

LÍNGUA PORTUGUESA

Leia a mensagem:

A palavra é uma unidade que pode ser dividida em sílabas.

- ✓ Uma sílaba- mar - **monossílaba**
- ✓ Duas sílabas- terra-**dissílaba**
- ✓ Três sílabas- semana- **trissílaba**
- ✓ Relâmpago- quatro ou mais sílabas – **polissílaba**

1- Relacione:

(1) **monossílaba** () ninguém () amigos () tem

(2) **dissílaba** () festa () aquele () paciente () pesado

(3) **trissílaba** () pensamento () dá () amor

(4) **polissílaba** () gratidão () vida () ressurreição

2- Conte letras e fonemas das palavras **amor** e **aquele**.



PRODUÇÃO TEXTUAL

1-Com essas palavras construa duas frases que expressem como está o seu “seu lado emocional “em tempos de pandemia”.

2-É possível ser grato (a) ainda assim? Opine!

força
família
gratidão
Deus
paz
fé
amor

MATEMÁTICA

Nas nossas vidas diárias, devemos ver que não é a felicidade que nos faz agradecidos, mas a gratidão é que nos faz felizes.

“Quem acolhe um benefício com gratidão, paga a primeira prestação da sua dívida.” A dívida que vamos trabalhar agora, é uma dívida relacionada a bens materiais, bens esses que muitas vezes nos proporcionam qualidade de vida, bem-estar e lazer, portanto vale muito à pena fazê-la.

1-Vera tem R\$ 1000,00 e quer comprar um telefone celular de R\$445,00, uma batedeira de R\$ 290,00 e um aparelho de som de R\$390,00. O dinheiro que Vera possui não será suficiente para comprar os três aparelhos, ela dará uma parte à vista e o restante ela ficará devendo ao cartão de crédito. Qual a quantia Vera ficará devendo no cartão?_____

2-Escreva na linguagem matemática e encontre o resultado:

a) O dobro de cinco somado com seu sucessor. _____

b) O triplo de quatro dividido por dois. _____

RACIOCÍNIO LÓGICO

Curvas


Uma **curva** é, basicamente, toda união de pontos. Intuitivamente, uma curva é todo “rabisco” que podemos desenhar. É importante se atentar ao fato de que, na Matemática, um segmento de reta também é considerado uma curva.

Podemos classificar uma curva de quatro maneiras distintas: **aberta** ou **fechada** e **simples** ou **não simples**.

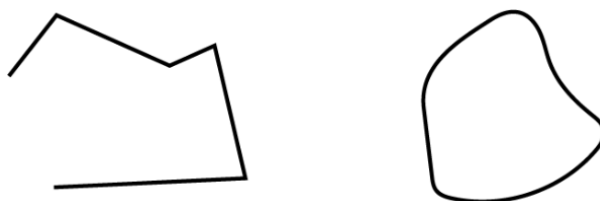
Curva aberta: uma curva será aberta quando ela tiver extremos, isto é, começo e fim, conforme os exemplos abaixo.



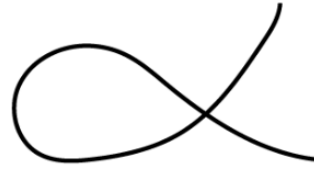

Curva fechada: já uma curva fechada é aquela sem extremidades. Podemos ver que uma curva fechada representa algo cíclico.



Curva simples: dizemos que uma curva é **simples** se ela não tiver auto intersecção, ou seja, não cruzar entre si.




Curva não simples: e, por fim, uma curva é definida como não simples, se ela possuir auto intersecção.



1) Circule as curvas abertas e pinte as fechadas:



2) Assinale as curvas abertas



1- A qual século pertencem as datas abaixo?

a) 1789 _____ b) 1889 _____ c) 47 _____ d) 1500 _____

2- Tendo em vista que a teoria Evolucionista é a mais aceita para a explicação da origem dos seres humanos, em qual das opções abaixo se encontra o nome do principal cientista que a defendia?

a) Charles Darwin b) Albert Einstein c) Galileu Galilei d) Nicolau Copérnico

GEOGRAFIA

1. A paisagem em que predominam os aspectos originais da natureza como a vegetação, o relevo e a hidrografia é chamada de paisagem natural.

Assinale a alternativa abaixo que contenha **apenas paisagens naturais**:

- a) floresta, conjunto de montanhas e avenida. b) rodovia, edifícios e represa.
c) geleira, floresta e conjunto de montanhas. d) hidrelétrica, cidade e lago.

2. Explique:

a) Espaço rural

b) Espaço urbano

CIÊNCIAS

TEXTO: NOSSO AMBIENTE, NOSSA SAÚDE, NOSSA QUALIDADE DE VIDA!

A preservação do meio ambiente começa com pequenas atitudes diárias que fazem toda a diferença, sendo que uma das mais importantes é a reciclagem do lixo. O lixo é produzido diariamente em todas as atividades humanas. A reciclagem veio para amenizar essa produção indesejada, além de aliviar os lixões e aterros sanitários.

Precisamos sensibilizar a comunidade a reavaliar seus próprios hábitos acerca do desperdício de recursos naturais.

O incentivo à coleta seletiva é algo que vai favorecer o meio ambiente, ela consiste na separação dos materiais já na fonte produtora (as casas, fábricas, comércios, escolas...) para que possam ser posteriormente reciclados.

1) Escreva três hábitos para se evitar o desperdício dos recursos naturais.

2) Desenhe ou recorte de revistas sugestões de lixeiras próprias para coleta seletiva.

LÍNGUA INGLESA

- Leia atentamente o perfil abaixo com a ajuda de um tradutor para responder às questões 1 e 2.



Name: Barack Hussein Obama II

Birth: August 4, 1961

Gender: Male

Origin: Honolulu, Hawaii

Nationality: American

Zodiac Sign: Leo

Residence: White house

1) Considerando o gênero do texto apresentado acima, podemos afirmar que se trata de um:

- a) Poem. b) Comic book. c) Profile. d) Short story.

2) Quais tipos de informações podemos retirar do texto acima?

- a) Full name; birth; gender zodiac sign; nationality and residence.
b) Name; age; country; origin and nick name.
c) Name; favorite books; favorite music and origin.
d) Todas as alternativas acima.

ARTE

Recorte e cole figuras, fotos ou nome de pessoas que representem as palavras apresentadas em sua Produção Textual.

força gratidão
família Deus fé
paz amor

MINHA BANDEIRA PESSOAL

Faça um desenho de uma bandeira, no caderno, e divida-a em 6 partes.

Lembre-se que a bandeira geralmente representa um país e significa algo da história desse país.

Nesta atividade você vai construir sua própria bandeira a partir das seis perguntas:

1- Qual o seu maior sucesso individual? 2- O que gostaria de mudar em você?

3- Qual a pessoa que você mais admira? 4- Em que atividade você se considera muito bom? 5- O que mais valoriza na vida? 6- Qual a sua maior dificuldade?

As respostas podem ser por intermédio de um desenho ou de um símbolo na área adequada. Os que não quiserem desenhar poderão escrever, não esqueça de colocar o número correspondente a pergunta. Pintar e enfeitar como quiser a sua bandeira.

EDUCAÇÃO FÍSICA

- 1) Com a pandemia da Covid-19, mudamos nossa rotina para ficarmos dentro de casa, como forma de reduzir a proliferação do vírus, porém sabemos que a prática da atividade física não pode parar. Quais as sugestões que você daria para que isso aconteça de forma segura?



IV SEMANA (26 a 30 de Abril de 2021)

LÍNGUA PORTUGUESA

Como está a sua saúde mental?

Texto: **Saúde mental X felicidade**



Desde que a felicidade virou uma espécie de obrigação, fazemos uma confusão entre a noção de saúde mental e felicidade. Mas saúde mental não é a mesma coisa que felicidade; saúde mental está relacionada com a capacidade de acolher, de lidar com nossos afetos, sejam eles ruins ou bons, felizes ou não.

Nesses tempos de Pandemia e isolamento social, nós, todos nós, estamos sendo convocados a nos colocarmos no lugar do outro, ofertar receitas de felicidade e serenidade, leveza e gratidão. Eu penso que quem está alegre, despreocupado, sem sonhos estranhos e não chorou (ao menos pra dentro) nessas últimas semanas, ou não entendeu direito o que está acontecendo ou está completamente descolado da realidade. Sejam fortes! Busquemos tempo para nós mesmos! Renovemos nossa fé, pois só assim superaremos os desafios em tempos tão difíceis.

Autora desconhecida

1-O que significa no texto “ tempos difíceis “? _____

2- Conte letras e fonemas:

| | | | |
|------------|--|-----------|--|
| felicidade | | nessas | |
| chorou | | busquemos | |
| acolher | | hora | |
| nasce | | descolado | |

3-Das palavras acima quais possuem dígrafo? _____

4-Qual possui encontro consonantal? _____

PRODUÇÃO TEXTUAL

Deixe o celular e escreva uma carta a mão para alguém especial que você nunca escreveu uma carta. Use data, saudação inicial e final.

Entregue a carta em mãos ou envie pelo correio. Caso não dê, tire foto e envie. Quem sabe essa pessoa pode estar a seu lado e nunca recebeu uma carta sua? Fica a dica!

MATEMÁTICA

Saúde nosso bem maior!

Para nos mantermos saudáveis, a alimentação é sempre uma grande aliada. Embora não haja comprovação científica da relação entre o consumo de determinados alimentos ou suplementos e o combate ao coronavírus, a alimentação saudável exerce um papel primordial para a manutenção da saúde e do sistema imunológico. **Alimente-se bem!**

1-Em uma barraca de feira, 3 mangas custam R\$5,00.

a)Qual é o preço de 30 mangas? _____

b)Se eu quiser comprar uma dúzia de mangas, quanto pagarei? _____

Manter a saúde em dia é fundamental para ter uma vida feliz. Para isso é importante manter alguns pequenos cuidados diários. Comece hoje mesmo.

Mantenha seus exames em dia e consulte um médico periodicamente!

2-Observe a tabela e responda as questões abaixo:

| Período | Atendimentos |
|---------|--------------|
| Manhã | 125 |
| Tarde | 28 |
| Noite | ? |
| Total | 170 |

- Qual é o total de atendimentos nos turnos manhã e tarde? _____
- Qual o total de atendimento nos três turnos? _____
- Qual o número de atendimentos médicos que falta para completar a tabela? _____

RACIOCÍNIO LÓGICO

- Que elemento geométrico, uma linha bem esticada, nos sugere?
a) Um ponto b) Um plano c) Uma reta d) Uma curva
- Um ângulo reto, é aquele que mede:
a) 60° b) 45° c) 360° d) 90°

HISTÓRIA

Os idosos

Envelhecer é uma grande vitória. Significa estar vivendo há muito tempo, já ter passado por várias experiências e testemunhado inúmeros acontecimentos. Conviver com os idosos é um privilégio, pois temos a possibilidade de partilhar toda essa memória, esse conhecimento acumulado sobre o mundo. Para a história, os idosos significam uma oportunidade única para recuperar informações sobre o passado. Mais do que isso, é a chance de preservar testemunhos e experiências de sujeitos que, em sua memória, nunca tiveram a oportunidade de registrar seu modo de vida, sua história.



1- Ao trabalhar com o relato de pessoas idosas, o historiador estará utilizando uma fonte:

- Oral b) Textual c) Visual d) Mídia interativa

2- Envelhecer é uma grande vitória. Justifique de acordo com o texto, e acrescente ideias suas também.

3- Por que a convivência com os idosos é um privilégio?

GEOGRAFIA

A Geografia é muito importante para realizar as leituras de mundo.



A **Importância da Geografia** está relacionada à necessidade de se conhecer o espaço geográfico. Este pode ser entendido como o espaço produzido pelo homem e que está em constante transformação ao longo do tempo. Podemos dizer, então, que o **espaço geográfico** possui um caráter histórico e, por isso, é capaz de contar a história e as características da ação humana sobre o meio em que vive. Além do mais, também é campo de estudo da Geografia toda a dinâmica superficial da Terra.

- Observe a obra O Subúrbio, de Airton das Neves, para responder as questões abaixo:



O Lugar Geográfico é o “palco da nossa existência real”; é o espaço em que vivemos e com o qual possuímos identidade e vínculo.
É um local em que estabelecemos relações, compartilhando-o com outros indivíduos.

1-Por que a pintura representa um Lugar Geográfico?

2- Sabendo que a Paisagem Geográfica é definida pela Geografia como o domínio do visível e que ela é formada por elementos naturais e culturais, descreva quais são os elementos naturais e culturais vistos nesta paisagem? _____

CIÊNCIAS

→ Retorne ao texto: **NOSSO AMBIENTE, NOSSA SAÚDE, NOSSA QUALIDADE DE VIDA** e responda:

- 1) O que podemos fazer para amenizar a produção de lixo indesejada?

- 2) O que é coleta seletiva?

LÍNGUA INGLESA

- 1) Com a ajuda de tradutor, observe atentamente e leia a tirinha abaixo e responda às perguntas:



ARTE



A Arte está no dia a dia das pessoas.

A todo momento encontramos com verdadeiros artistas como designer de bolos, designer de cabelos e unhas, mestres de cozinha e tantos outros que nem valorizamos não é verdade?

- 1- Onde mais podemos encontrar Arte na vida? _____
- 2- Seja criativo (a)! Represente onde mora a felicidade com um desenho, foto, pintura ou outros.

ENSINO RELIGIOSO

Desenvolvimento sustentável tem como conceito clássico ser aquele que atende às necessidades do presente sem comprometer a possibilidade das gerações futuras atenderem as suas próprias necessidades.

1 – Anote quatro possibilidades de contribuir para as gerações futuras, baseando-se no texto acima.

EDUCAÇÃO FÍSICA

1) Quais os benefícios físicos e mentais da prática diária de atividade física?

EDUCAÇÃO DE JOVENS E ADULTOS – EJA II I SIMULADO DIAGNÓSTICO REMOTO – FASE VI DATA: 27/04/2021

ESCOLA: _____

ALUNO: _____

QUESTÃO 1 - Em “Já **tive** mulheres de todas as cores”, na oração o termo em destaque expressa ideia de:

- (A) Uma ação que acontecerá no Futuro;
- (B) Uma atitude de indecisão;
- (C) Uma ação acontecida no Passado;
- (D) Uma ação que acontece agora, no Presente.

QUESTÃO 2 - No trecho da música “Mulheres” de Martinho da Vila:

- É correto afirmar que:

Já tive mulheres de todas as cores
De várias idades, de muitos amores
Com umas até certo tempo fiquei
Pra outras apenas um pouco me dei.

- (A) Foi utilizada uma linguagem formal, culta;
- (B) Não há rimas;
- (C) Foram empregados dois pares de rimas;
- (D) Nenhuma opção está correta.

QUESTÃO 3- Rodolfo é irmão de Joaquim, Paulo e Rodrigo, ele economizou de sua mesada, a quantia de R\$ 44,00. Ficará com R\$20,00 e dividirá o restante entre seus 3 irmãos. Quanto cada irmão receberá?

- (A) R\$11,00 (B) R\$9,00 (C) R\$10,00 (D) R\$8,00

QUESTÃO 4- Vera tem R\$ 1000,00 e quer comprar um telefone celular de R\$445,00, uma bateadeira de R\$ 190,00 e um aparelho de som de R\$390,00. O dinheiro que Vera possui será suficiente para comprar os três aparelhos?

- (A) Sim, sobrará R\$ 25,00 (B) Não, faltará R\$ 25,00
(C) Não, faltará R\$ 43,00 (D) Sim, sobrará R\$100,00

QUESTÃO 5- Roma foi influenciada em sua formação por uma variedade de povos que habitavam a Península Itálica. Dentre as alternativas que seguem, quais dos povos listados abaixo não influenciaram a formação de Roma:

- (A) Gregos. (B) Sabinos. (C) Persas. (D) Latinos.

QUESTÃO 6- Considerando a riqueza dos recursos hídricos brasileiros, uma grave crise de água em nosso país poderia ser motivada por:

- (A) reduzida área de solos agricultáveis.
(B) ausência de reservas de águas subterrâneas.
(C) falta de tecnologia para retirar o sal da água do mar.
(D) degradação dos mananciais e desperdício no consumo.



QUESTÃO 7- A camada mais interna da Terra e que possui temperatura altíssima, damos o nome de:

- (A) Núcleo.
(B) Manto.
(C) Crosta.
(D) Atmosfera.



QUESTÃO 8-A obra de Di Cavalcanti é cheia de retratação de mulheres. Apaixonado pela vida boêmia carioca, pintou as mulheres em seus diferentes momentos. Cada uma predomina uma característica. Entre as obras apresentadas a que destaca maior diversidade de cores e pessoas é:

(A)



(B)



(C)



(D)



QUESTÃO 9- Leia o balão e observe a imagem. O adjetivo que completa a opinião do garoto é:



It's _____.

(A) horrible.

(B) fantastic.

(C) great.

(D) cool.

QUESTÃO 10- O Brasil é legalmente um Estado laico. Essa classificação está prevista em diversos documentos oficiais, como pode ser constatado no fragmento a seguir:

“É vedado à União, aos Estados, ao Distrito Federal e aos Municípios:

I - Estabelecer cultos religiosos ou igrejas, subvencioná-los, embaraçar-lhes o funcionamento ou manter com eles ou suas representantes relações de dependência ou aliança, ressalvada, na forma da lei, a colaboração de interesse público;”

A que importante documento se refere o texto acima:

- (A) Declaração Universal dos Direitos Humanos
- (B) Decreto da Promulgação da República
- (C) Lei de Diretrizes Orçamentárias
- (D) Constituição da República Federativa do Brasil



QUESTÃO 11- A esgrima é um desporto que evoluiu da antiga forma de combate, em que o objetivo é tocar no adversário com uma lâmina ao mesmo tempo que se evita ser tocado por ele. Qual o principal equipamento utilizado na esgrima?

- (A) bola
- (B) espada
- (C) taco
- (D) raquete