



PREFEITURA MUNICIPAL DE ITAPERUNA
SECRETARIA MUNICIPAL DE EDUCAÇÃO
GESTÃO PEDAGÓGICA

EDUCAÇÃO DE JOVENS E ADULTOS - EJA

FASE V - MÓDULO III APRENDIZAGEM IMPRESSA
01 A 30 DE ABRIL DE 2021

ESCOLA: _____

ALUNO: _____

É TEMPO DE CELEBRAR A VIDA!

É TEMPO DE PASSAGEM. TEMPO DE RENOVAR A BAGAGEM.

É TEMPO PASCOAL, UM MEMORIAL SEM IGUAL.

É TEMPO DE CELEBRAR O AR QUE RESPIRAMOS, O CHÃO QUE PISAMOS, O PÃO DE CADA DIA E O ESTAR PERTO DA FAMÍLIA.

É TEMPO DE CELEBRAR O SEGUNDO, O MINUTO, O DIA DE VIDA!

É TEMPO DE AMAR O SOL, A CHUVA, O SOLO COMO UM COLO.

É TEMPO DE SER GIRASSOL NA VIDA DE ALGUÉM, SER ALÉM.

É TEMPO DE SORRIR COM UM BEM-TE-VI.

É TEMPO DE OBSERVAR UMA FLOR DESABROCHAR.

É TEMPO DE BOAS ESCOLHAS, SER LEVE COMO AS BOLHAS.

É TEMPO DE ABRAÇAR O TEMPO E SENTIR O VENTO!

É TEMPO DE SER ESTUDANTE E SEGUIR AVANTE.



**EIXO NORTEADOR:
VIVA a vida!**

AULA 01 – 01/04/2021



✓ COMO CELEBRAR A VIDA TODOS OS DIAS?

COMEÇAR COM A GRATIDÃO

O poder da gratidão

A gratidão possui vários benefícios para saúde, como por exemplo:

- Melhora a sensação de bem-estar e prazer;
- Aumenta a autoestima;
- Diminui o estresse e os sentimentos negativos, como raiva, angústia e medo, por exemplo;
- Melhora o sistema imunológico;
- Diminui a pressão sanguínea;
- Aumenta o sentimento de generosidade e compaixão.

A gratidão pode ser interpretada como um estado de espírito, em que a pessoa reconhece as pequenas conquistas do dia a dia e passa a valorizá-las.

- 1- ESCREVA UM TEXTO SOBRE OS MOTIVOS QUE VOCÊ TEM PARA SER GRATO.

AULA 02 – 05/04/2021

VAMOS CONSTRUIR UM CARTÃO?

- 1- PEGUE UM PEDAÇO DE PAPEL, ENFEITE-O. PESQUISE NO JORNAL OU REVISTA AS LETRAS DA PALAVRA GRATIDÃO E CONSTRUA UM CARTÃO.

- 2- ESCREVA UMA MENSAGEM DE GRATIDÃO E ENTREGUE O CARTÃO A ALGUÉM QUE VOCÊ QUEIRA AGRADECER POR ALGO. CASO NÃO POSSA ENTREGAR PESSOALMENTE, TIRE UMA FOTO E ENVIE PELO WHATSAPP.



AULA 03 – 06/04/2021

MÚSICA GRATIDÃO APENAS – BANDA EVA

O MUNDO TÁ EM CRISE
MAS A GENTE TÁ FIRME
NADA É PRA SEMPRE
OLHA PRA FRENTE
A NOITE ACABA QUANDO O SOL CHEGAR

QUE TODO PENSAMENTO SEJA POSITIVO
SEJA LEVE, DOCE E FAÇA SENTIDO
GRATIDÃO APENAS
VIVA COM A CERTEZA DE QUE TUDO VALE A PENA.

E SE FALTAR O MUNDO PRA NÓS
QUE OS PROBLEMAS NÃO CALEM A NOSSA VOZ
VAMOS VIVER DE AMOR!

1-EXPLORE A MÚSICA E ESCREVA NO CADERNO O QUE VOCÊ
INTERPRETOU DA LETRA.

2- PESQUISE NA LETRA DA MÚSICA ARTIGOS E SUBSTANTIVOS.

ARTIGOS	SUBSTANTIVOS

AULA 04 – 07/04/2021

É TEMPO PASCOAL! TEMPO DE CELEBRAR A VIDA!

1-PRODUZA PEQUENOS CARTÕES COM MATERIAIS QUE VOCÊ
TENHA EM CASA, PARA DISTRIBUIR A SEUS VIZINHOS, FAMILIARES
OU AMIGOS NESTA PÁSCOA, COM UMA FRASE QUE APRESENTE A
IMPORTÂNCIA DA VIDA NESTE MOMENTO DE PANDEMIA.

2-DEPOIS ESCOLHA UM CARTÃO PARA
POSTAR NO GRUPO DE WHATSAPP.



AULA 05– 08/04/2021

PÃO ÁZIMO (SEM FERMENTO) ERA O PÃO SERVIDO NA PÁSCOA ANTIGA.

Incrível!! Pão com 3 Ingredientes - Pão Árabe - Sem Fermento - Rápido e Fácil de Fazer



1- PESQUISE UMA RECEITA QUE SUA FAMÍLIA COSTUMA FAZER NA ÉPOCA DA PÁSCOA, REESCREVA NO SEU CADERNO E COMPARTILHE NO GRUPO DA TURMA.

AULA 06– 09/04/2021

CALCULANDO!

1- COMPRAREI OVOS PARA FAZER ALGUMAS GULOSEIMAS NA PÁSCOA. CADA DÚZIA VALE R\$ 8.00, NA COMPRA DE 4 DÚZIAS DE OVOS, QUANTO PAGAREI?



OVOS
R\$8,00 A DÚZIA



2- NA PADARIA DOCE ENCANTO FORAM VENDIDOS 85 BOLOS DE CHOCOLATE EM JANEIRO. EM FEVEREIRO A VENDA FOI O **QUÁDRUPLO**, ASSINALE A OPÇÃO CORRESPONDENTE:

- A) 220
- B) 340
- C) 240
- D) 850



3- NO MÊS DE MARÇO, A PADARIA FEZ ENTREGA DE 253 BOLOS E 124 PACOTES DE PÃO. QUAL O TOTAL DE ENTREGAS FEITAS PELO MOTOBOY?

- A) 277
- B) 320
- C) 255
- D) 377



4- COM A PANDEMIA, AS COMPRAS ON-LINE AUMENTARAM. ANALISE A TABELA E RESPONDA AS QUESTÕES **A, B E C**:

A) QUANTO GASTAREI NA COMPRA DO ÍTEM MAIS CARO?

B) NA COMPRA DE DOIS REFRIGERANTES, QUANTO RECEBEREI DE **TROCO**, PAGANDO COM R\$ 50,00?

C) QUAIS OS PRODUTOS DA LISTA QUE SÃO COMPRADOS EM QUILOS?



Carrinho		Finalizar
Todos	Comprados	Faltam
	Picanha	RS\$37.80 2 kg
	Suco de uva integral 1L	RS\$26.40 2 un
	Refrigerante Pepsi Cola 1,5L	RS\$8.00 4 un
	Cebola	RS\$2.24 1.50 kg
	Asa de Frango	RS\$13.34
3 itens		RS\$77.54

AULA 07 – 12/04/2021

MÚSICA CELEBRAR - JAMMIL

Celebrar!

Dance como se ninguém tivesse te olhando dançar
Cante bem alto embaixo do chuveiro
Se olhe no espelho, se ache legal
Quer saber? A vida é carnaval!

Tire um dia inteiro pra você
Leia um livro, ligue a TV
Telefone pra quem tem saudade
Faça tudo que quiser fazer

Celebrar!

Como se amanhã o mundo fosse acabar
Tanta coisa boa a vida tem pra te dar
O pensamento leve faz a gente mudar

Celebrar!

Como se amanhã o mundo fosse acabar

Tanta coisa boa a vida tem pra te dar
O pensamento leve faz a gente mudar

Se acostume com a felicidade
Seja inteiro e não pela metade

Celebrar!

Como se amanhã o mundo fosse acabar
Tanta coisa boa a vida tem pra te dar
O pensamento leve faz a gente mudar

Celebrar!

Como se amanhã o mundo fosse acabar
Tanta coisa boa a vida tem pra te dar



1- REESCREVA DUAS FRASES QUE VOCÊ MAIS GOSTOU NA LETRA DA MÚSICA.

2- ENCONTRE NA LETRA DA MÚSICA AS PALAVRA ESCRITAS COM “SS” E CIRCULE-AS.

3- COMPLETE AS PALAVRAS COM S E SS. PREENCHA O QUADRO COM ATENÇÃO.

Preencha	Escreva por extenso
MO__CA	<input type="text"/>
TE__OURA	<input type="text"/>
VE__TIDO	<input type="text"/>
CA__CATA	<input type="text"/>
CAMI__ETA	<input type="text"/>
MÚ__ICA	<input type="text"/>
VI__ÃO	<input type="text"/>
PA__AGEM	<input type="text"/>
RI__ADA	<input type="text"/>
PA__AGEIRO	<input type="text"/>
VA__OURA	<input type="text"/>

AULA 08 – 13/04/2021

POESIA É PRECISO MUDAR – BRÁULIO BESSA

“...Escreva uma carta à mão, esqueça o celular.

Visite alguém que, faz tempo, que não vem lhe visitar.

Fale mais, digite menos, construa em novos terrenos.

Pois, é preciso mudar!

Aprenda uma nova língua, talvez volte a estudar.

Tome mais banho de chuva, deixe a vida lhe banhar.

Pule muros, barreiras, crie novas brincadeiras.

Pois, é preciso mudar! ...”



1-LEIA O TRECHO DA POESIA DE BRÁULIO BESSA. PENSE E RESPONDA “POR QUE É PRECISO MUDAR?”.

2-DEIXE O CELULAR E ESCREVA UMA CARTA A MÃO PARA ALGUÉM ESPECIAL QUE VOCÊ NUNCA ESCREVEU UMA CARTA. USE A DATA, SAUDAÇÃO INICIAL E FINAL. ENTREGUE A CARTA EM MÃOS OU ENVIE PELO CORREIO. CASO NÃO DÊ, TIRE UMA FOTO E ENVIE.

AULA 09 – 14/04/2021

RECEITA

A RECEITA É UM GÊNERO TEXTUAL COMPOSTO DE DUAS PARTES BEM DEFINIDAS: INGREDIENTES E MODO DE PREPARO, QUE, POR SUA VEZ, PODEM OU NÃO VIR INDICADOS POR TÍTULOS. NA PRIMEIRA PARTE, NA QUAL SE ENCONTRAM RELACIONADOS OS INGREDIENTES, ESTIPULA-SE AS QUANTIDADES NECESSÁRIAS PARA REALIZAR A RECEITA. ESSAS QUANTIDADES VEM DESCRITAS EM UNIDADES DE MEDIDAS, COMO: GRAMAS, MILILITROS, LITROS, XÍCARAS, COLHERES, PITADAS, ENTRE OUTRAS.


JÁ NA SEGUNDA PARTE, SE DESCREVE COMO PROCEDER NA RECEITA, OU, EM OUTRAS PALAVRAS, O MODO DE FAZER.

1- LEIA A RECEITA CULINÁRIA ABAIXO. CIRCULE AS PALAVRAS COM F E RISQUE AS PALAVRAS COM V:

BOLO DE FUBÁ DA VOVÓ MARIA

INGREDIENTES:

- 4 OVOS
- 2 XÍCARAS DE AÇÚCAR
- 2 XÍCARAS DE FARINHA DE TRIGO
- 1 XÍCARA DE FUBÁ
- 3 COLHERES DE SOPA DE MARGARINA
- 1 XÍCARA DE LEITE
- 4 COLHERES DE CHÁ DE FERMENTO



MODO DE PREPARO:

- 1- BATA AS CLARAS EM NEVE, ACRESCENTE O AÇÚCAR E CONTINUE BATENDO NUMA VASILHA.
- 2- ACRESCENTE AOS POUCOS OS OUTROS INGREDIENTES E CONTINUE BATENDO. COLOQUE POR ÚLTIMO O FERMENTO E BATA POR MAIS UM MINUTO.
- 3- COLOQUE A MASSA NUMA FORMA UNTADA E DEIXE ASSAR EM FORNO MÉDIO PRÉ-AQUECIDO POR APROXIMADAMENTE 30 MINUTOS.

2-RESPONDA:

- PARA QUE OS NÚMEROS SÃO UTILIZADOS EM UMA RECEITA?
- O QUE ACONTECERIA SE UMA RECEITA NÃO APRESENTASSE AS UNIDADES DE MEDIDA?

AULA 10 – 15/04/2021

1- AGORA É SUA VEZ! ESCREVA UMA RECEITA QUE VOCÊ GOSTA DE FAZER. NÃO ESQUEÇA DE ESCREVER CADA ETAPA DA RECEITA. VOCÊ PODE UTILIZAR O CADERNO, SE PREFERIR.

- ✓ TÍTULO
- ✓ INGREDIENTES
- ✓ MODO DE FAZER



AULA 11 – 16/04/2021

LEIA A TIRINHA!



1- Assinale a resposta que **NÃO** está de acordo com a tirinha.

- A) O lugar onde moramos não importa. O importante é viver bem.
- B) Tanto a cidade quanto o campo são importantes para a nossa sobrevivência.
- C) Chico Bento fala uma linguagem caipira, típico de quem mora no interior.
- D) O amigo de Chico Bento prefere a vida na cidade.
- E) Somente a cidade oferece privilégios.

2 -Responda as perguntas a seguir, anote as respostas em seu caderno:

- A) O que diferencia a zona rural da zona urbana?
- B) Existe uma interdependência entre o campo e a cidade? JUSTIFIQUE sua resposta.



EIXO NORTEADOR: SAÚDE NOSSO MAIOR BEM

AULA 12 – 19/04/2021

QUALIDADE DE VIDA EM TEMPOS DE COVID-19



HÁ UM LADO DA PANDEMIA DE CORONAVÍRUS QUE PRECISA SER CUIDADO, PRINCIPALMENTE, NESTE MOMENTO QUE SE PEDE PARA A POPULAÇÃO FICAR EM CASA PARA EVITAR QUE O VÍRUS CONTINUE SE ESPALHANDO: A SAÚDE EMOCIONAL.

1- DE QUE FORMA VOCÊ ESTÁ CUIDANDO DA SUA SAÚDE MENTAL? CONTE UM POUCO SOBRE AS ATIVIDADES QUE ESTÁ FAZENDO COM SUA FAMÍLIA DURANTE O ISOLAMENTO. REGISTRE EM SEU CADERNO.

2- A PRÁTICA DE ATIVIDADES FÍSICAS REDUZ O ESTRESSE E AUMENTA A SENSAÇÃO DE BEM-ESTAR.



A ATIVIDADE FÍSICA É MUITO BENÉFICA AO SER HUMANO E DENTRE ELAS DESTACAMOS A CORRIDA.

OBSERVE E ANALISE AS DISTÂNCIAS PERCORRIDAS PELOS MARATONISTAS ABAIXO E RESPONDA.

MARIO CORREU 42 KM EM 2H
FLÁVIO CORREU 50KM EM 2H
ADRIANO CORREU 45 KM EM 2H

A) QUAL MARATONISTA PERCORREU A MAIOR DISTÂNCIA E QUAL O TEMPO UTILIZADO?

B) JUNTOS PERCORRERAM QUANTOS KM?

C) QUAL O TEMPO TOTAL PERCORRIDO PELOS ATLETAS?

AULA 13 – 20/04/2021

1- O LAZER É MUITO MAIS IMPORTANTE QUE VOCÊ IMAGINA!

PARA TER UMA BOA SAÚDE MENTAL É SEMPRE BOM LER BONS LIVROS, OUVIR BOAS MÚSICAS, PASSEAR AO AR LIVRE, PRATICAR ESPORTES E BRINCAR.

✓ ESCREVA OUTRAS ATIVIDADES QUE VOCÊ FAZ PARA RELAXAR.

2- O TEMPO NÃO PARA!

✓ LEIA O TRECHO DA MÚSICA DE MICHEL TELÓ, O TEMPO NÃO ESPERA NINGUÉM:

A felicidade está no caminho
Aproveite todos os momentos que você tem
Ainda mais se tiver alegrias pra compartilhar com
alguém
O tempo não espera ninguém
A felicidade está no caminho
Aproveite todos os momentos que você tem
Ainda mais se tiver alegrias pra compartilhar com alguém
O tempo não espera ninguém




✓ APROVEITAR TODOS OS MOMENTOS E COMPARTILHAR COM ALGUÉM SÃO FORMAS SAUDÁVEIS DE LEVAR A VIDA. VOCÊ TEM APROVEITADO TODO OS MOMENTOS QUE VOCÊ TEM?

✓ VOCÊ COMPARTILHA SUAS ALEGRIAS COM ALGUÉM? REFLITA E ESCREVA SOBRE UM MOMENTO DE ALEGRIA QUE VOCÊ TEM VIVIDO. COMPARTILHE COM SUA TURMA.

AULA 14 – 22/04/2021

CONSULTE UM CALENDÁRIO.

1- O ISOLAMENTO SOCIAL NA NOSSA ESCOLA COMEÇOU NO MÊS DE MARÇO DE 2020. CONTE QUANTOS MESES JÁ ESTAMOS NO ISOLAMENTO SEM IRMOS PARA A ESCOLA E REGISTRE.



2- CONSULTE A TABELA E COMPLETE:

Unidade	Corresponde a
1 dia	24 horas
1 semana	7 dias
1 quinzena	15 dias
1 bimestre	2 meses
1 trimestre	3 meses
1 quadrimestre	4 meses
1 semestre	6 meses
1 ano	365 dias ou 12 meses
1 década	10 anos
1 século	100 anos
1 milênio	1 000 anos

A)1 BIMESTRE TEM _____ MESES.

B)1 ANO TEM _____ DIAS OU _____ MESES.

C) 1 DIA TEM _____ HORAS.

D) 1 DÉCADA TEM _____ ANOS.

E) 1 SEMANA TEM _____ DIAS.

F) 1 MILÊNIO TEM _____ ANOS.

G) 1 QUINZENA TEM _____ DIAS.

H) 1 SÉCULO TEM _____ ANOS.

AULA 15 – 26/04/2021

1- SANEAMENTO BÁSICO E QUALIDADE DE VIDA

A CARÊNCIA DE SERVIÇOS DE ÁGUA POTÁVEL, COLETA E DE TRATAMENTO DE ESGOTO, CRIA UM AMBIENTE PROPÍCIO AO DESENVOLVIMENTO DE DOENÇA GRAVES.



Isto não!



Isto sim!

✓ FAÇA UMA PESQUISA E CITE AS PRINCIPAIS DOENÇAS GERADAS PELA FALTA DE SANEAMENTO BÁSICO. REGISTRE EM SEU CADERNO OU EM UMA FOLHA A PARTE.

2- HÁBITOS DE HIGIENE

OS HÁBITOS DE HIGIENE SÃO FUNDAMENTAIS PARA NOSSA VIDA E NOSSA SAÚDE, SEM ELES FICARÍAMOS COTIDIANAMENTE DOENTES. SER CUIDADOSO COM O SEU CORPO, COM O AMBIENTE, ALIMENTOS É RESPONSABILIDADE DE CADA UM.

✓ OBSERVE AS IMAGENS ABAIXO:



✓ VOCÊ COSTUMA USAR ALGUM DOS PRODUTOS ACIMA ?

✓ ESCREVA OS NOMES DE ALGUNS PRODUTOS, MOSTRADOS ACIMA, QUE VOCÊ UTILIZA.

HIGIENE PESSOAL

HIGIENE DO AMBIENTE

EDUCAÇÃO DE JOVENS E ADULTOS - EJA

FASE V - SIMULADO DIAGNÓSTICO IMPRESSO

AULA 16 – 27/04/2021

LÍNGUA PORTUGUESA



**NÃO É PROIBIDO
MARISA MONTE**



JUJUBA, BANANADA, PIPOCA
COCADA, QUEIJADINHA,
SORVETE
CHICLETE, SUNDAE DE
CHOCOLATE

(...)

VENHA PRA CÁ, VENHA COMIGO
A HORA É PRA JÁ, NÃO É
PROIBIDO
VOU TE CONTAR, TÁ DIVERTIDO
PODE CHEGAR



UH, UH, UH
VAI SER NESSE FIM DE SEMANA
MANDA UM E-MAIL PARA A
JOANA VIR

UH, UH, UH
NÃO PRECISA BANCAR BACANA
FALA PARA O PEIXOTO CHEGAR
AÍ

(...)

TODA TRISTEZA
DEIXA LÁ FORA
CHEGA PRA CÁ



QUESTÃO 1 - MARQUE COM X O CORRETO A RESPEITO DO TEMA PRINCIPAL DA MÚSICA LIDA ACIMA:

- (A) VAI ACONTECER UMA REUNIÃO DE SINDICATO E TODOS ESTÃO CONVIDADOS.
- (B) ESTÁ ACONTECENDO UMA FESTA DE ANIVERSÁRIO ONDE TODOS ESTÃO SE SENTINDO TRISTES.
- (C) VAI ACONTECER UMA FESTA, RECHEADA DE COISAS GOSTOSAS E A ALEGRIA VAI SER CERTA.
- (D) PRA FESTA QUE ESTÁ ANIMADA SÓ PODE ENTRAR QUEM ESTIVER TRISTE.



QUESTÃO 2- QUAL ALTERNATIVA APRESENTA SOMENTE SUBSTANTIVOS PRÓPRIOS?

- (1) JUJUBA, BANANADA, PIPOCA
- (2) MARISA, JOANA, PEIXOTO
- (3) COCADA, QUEIJADINHA, SORVETE
- (4) CHICLETE, SUNDAE DE CHOCOLATE



QUESTÃO 3- LEIA O TEXTO E MARQUE A RESPOSTA CERTA:

O NOME DE UMA PESSOA FAZ PARTE DE SUA IDENTIDADE. ELE ESTÁ PRESENTE NOS DOCUMENTOS DESDE O NASCIMENTO ATÉ A MORTE: CERTIDÃO DE NASCIMENTO, CARTEIRA DE IDENTIDADE, CARTEIRA PROFISSIONAL, CERTIDÃO DE CASAMENTO, DIPLOMAS, CARTEIRA DE HABILITAÇÃO, ETC. TODOS OS DOCUMENTOS POSSUEM UM NÚMERO. O NÚMERO MAIS UTILIZADO NO DIA A DIA É O QUE APARECE NA CARTEIRA DE IDENTIDADE, CONHECIDO COMO RG: REGISTRO GERAL.

OBSERVE: “ELE ESTÁ PRESENTE NOS DOCUMENTOS, DESDE O NASCIMENTO ATÉ A MORTE”.

- A EXPRESSÃO **ELE (PRONOME)** ESTÁ SE REFERINDO AO:
 - (A) DOCUMENTO DE IDENTIDADE
 - (B) NÚMERO DE REGISTRO GERAL
 - (C) O NOME DE UMA PESSOA
 - (D) O NASCIMENTO DE UMA PESSOA

QUESTÃO 4- Ao declarar emergência pelo novo Coronavírus, o diretor-geral da OMS colocou o combate à disseminação de rumores e desinformação entre as principais recomendações aos países. Isso porque após se tornar uma preocupação global, a doença misteriosa tem sido alvo constante de informações falsas, que vão de teorias da Conspiração a receitas sem embasamento científico para prevenir o contágio.

- O TEXTO QUE VOCÊ LEU É:
- (A) UM CONTO POR TER PERSONAGENS.
 - (B) UMA FÁBULA POR TER MORAL.
 - (C) UMA LENDA POR CONTAR UMA ORIGEM.
 - (D) UMA NOTÍCIA POR RELATAR UM FATO.

QUESTÃO 5 – LEIA O CARTAZ COM ATENÇÃO.



- DE ACORDO COM O TEXTO DO CARTAZ, QUEM DEVE SER VACINADO?
- (A) CRIANÇAS COM PARALISIA
 - (B) CRIANÇAS MENORES DE 5 ANOS
 - (C) MENINAS DE VÁRIAS IDADES
 - (D) MENINOS COM 5 ANOS

MATEMÁTICA

QUESTÃO 6 - PARA FAZER UMA FESTA COM MUITAS GULOSEIMAS E OUTRAS DELÍCIAS, MARISA VAI PRECISAR COMPRAR ALGUNS DESSES PRODUTOS:



R\$ 125,00



R\$ 3,00



R\$ 8,00

➤ SE ELA COMPRAR UM BOLO, 5 REFRIGERANTES E 1 PACOTE DE JUJUBAS, IRÁ GASTAR:

- (A) R\$165,00
- (B) R\$191,00
- (C) R\$215,00
- (D) R\$168,00

QUESTÃO 7 - CAMILA FEZ 32 BRIGADEIROS PARA VENDER. ELA DISTRIBUIU ESSES BRIGADEIROS IGUALMENTE EM 4 CAIXAS. QUANTOS BRIGADEIROS CAMILA COLOCOU EM CADA CAIXA?

- (A) 9 BRIGADEIROS
- (B) 8 BRIGADEIROS
- (C) 5 BRIGADEIROS
- (D) 7 BRIGADEIROS



QUESTÃO 8 – JOSÉ COMPLETOU 1960 BOLINHAS DE GUDE EM SUA COLEÇÃO. ESSE NÚMERO É COMPOSTO POR:

- (A) 1 UNIDADE DE MILHAR, 9 DEZENAS E 6 UNIDADES
- (B) 1 UNIDADE DE MILHAR, 9 CENTENAS E 6 DEZENAS
- (C) 1 UNIDADE DE MILHAR, 6 CENTENAS
- (D) 1 UNIDADE DE MILHAR, 60 UNIDADES

QUESTÃO 9 - NA COMPRA DESSA TV, PAGUEI COMO ENTRADA R\$ 450, 00 QUE CORRESPONDE A 50% DO VALOR TOTAL. QUANTO CUSTA ESSA TV?

- (A) R\$ 800,00
- (B) R\$ 900,00
- (C) R\$ 500,00
- (D) R\$ 950,00



HISTÓRIA

QUESTÃO 10 - OBSERVE A IMAGEM:

- AO OBSERVAR A IMAGEM, VEMOS UMA DESVANTAGEM DO USO DE CELULARES E DA INTERNET. MARQUE A ALTERNATIVA QUE MOSTRA ESSA DESVANTAGEM:



- (A) AJUDA NA INTERAÇÃO DA FAMÍLIA.
- (B) APROXIMA AS PESSOAS.
- (C) AFASTA AS PESSOAS UMA DAS OUTRAS.
- (D) PERMITE UMA CONVERSA PRAZEROSA ENTRE OS MEMBROS DA FAMÍLIA.

GEOGRAFIA

QUESTÃO 11 - COMO NOSSO PLANETA É GRANDE E CHEIO DE VIDA! NÓS MORAMOS NO PLANETA TERRA, NOSSO PAÍS É O BRASIL E O NOME DO ESTADO ONDE VIVEMOS É ...

- (A) RIO DE JANEIRO
- (B) SÃO PAULO
- (C) BAHIA
- (D) ESPÍRITO SANTO



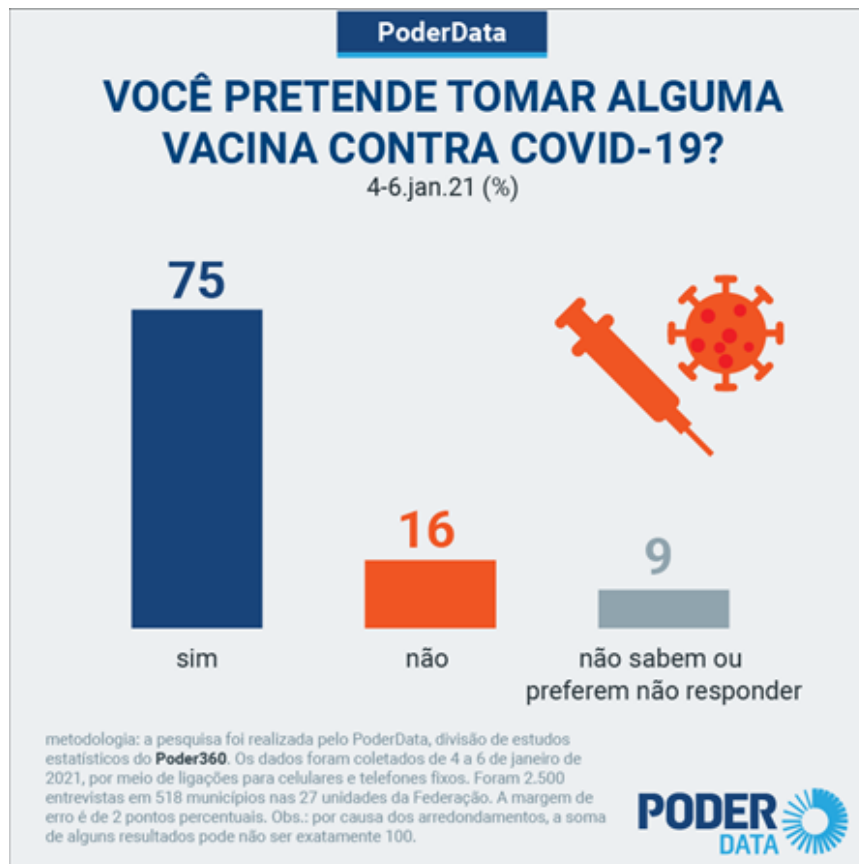
CIÊNCIAS

QUESTÃO 12 - SAÚDE É UM BEM SOCIAL E INDIVIDUAL. DEVEMOS MANTER ALGUNS CUIDADOS PARA O BEM DE TODOS. UMA DOENÇA RECÉM-DESCOBERTA EXIGE DE NÓS MUDANÇA DE HÁBITOS E COSTUMES. A QUAL DOENÇA A CHARGE SE REFERE?



- (A) COVID-19
- (B) DENGUE
- (C) SARAMPO
- (D) RUBÉOLA


A Academia Brasileira de Ciências (ABC) está promovendo campanha intitulada “Vacina é Ciência”, para esclarecer o público sobre o valor que a imunização tem para a saúde pública.



- ✓ VOCÊ PRETENDE TOMAR OU JÁ TOMOU ALGUMA VACINA CONTRA A COVID-19?
- ✓ O GRÁFICO ACIMA MOSTRA O RESULTADO DE UMA PESQUISA EM ALGUNS MUNICÍPIOS BRASILEIROS. O QUE A POPULAÇÃO ENTREVISTADA DEMONSTROU NA PESQUISA?

AULA 18 – 29/04/2021

1- FORME UMA FRASE PARA CADA DESENHO.



<http://shutterstock.com>

1)
2)

2- APÓS A PANDEMIA, A VENDA DE ÁLCOOL EM GEL AUMENTOU. **QUAL VALOR TOTAL DOS DOIS PRODUTOS?**

- A) R\$ 71,50
- B) R\$ 61,20
- C) R\$ 81,50
- D) R\$ 76,40




Álcool em gel antisséptico
4,3kg Asseptgel Start Quimica
PT 1 UN
★★★★☆ (4)
R\$ 65,30



Álcool em gel antisséptico
52g Asseptgel Start Quimica
PT 1 UN
☆☆☆☆☆ (0)
R\$ 6,20

3- EXPLIQUE A FRASE DO CARTAZ: “LAVAR AS MÃOS SALVA VIDAS!”



AULA 19 - 30/04/2021

SABONETES PARA QUEM PRECISA

UMA DAS PRINCIPAIS FORMAS DE PREVENIR O CORONAVÍRUS É POR MEIO DA HIGIENE. MAS, SE A PESSOA NÃO TIVER ACESSO À ÁGUA, NEM DINHEIRO PARA COMPRAR SABONETE? INFELIZMENTE, ESSA É A REALIDADE EM DIVERSAS REGIÕES DO BRASIL E DO MUNDO.



NO RIO DE JANEIRO, VÁRIAS PESSOAS E TAMBÉM EMPRESAS, ESTÃO SE REUNINDO PARA DOAR SABONETES AOS MORADORES DE ALGUMAS FAVELAS. PARA EVITAR CONTATO FÍSICO, OS ITENS SÃO DEIXADOS NOS MUROS DAS CASAS. ESSAS COMUNIDADES SÃO MOTIVO DE GRANDE PREOCUPAÇÃO, NÃO APENAS PELA FALTA DE CONDIÇÕES HIGIENE, MAS TAMBÉM POR TEREM MAIOR AGLOMERAÇÃO DE PESSOAS.

Revista Qualé – 5ª Edição – Abril, 2020.

1- NO SEU BAIRRO EXISTEM PESSOAS QUE ESTÃO PASSANDO POR PROBLEMAS DEVIDO AO ISOLAMENTO E A FALTA DE RECURSOS PARA MANTER A HIGIENE? COMO VOCÊ PODE AJUDAR?



2- VEJA A ARRECADAÇÃO PARA CESTAS BÁSICAS EM NOSSO BAIRRO: 25 KG DE ARROZ, 15 KG DE FEIJÃO E 30 LATAS DE ÓLEO. QUAL O TOTAL DE ITENS ARRECADADOS?

- A) 60 B) 70 C) 80 D) 75

3- A ESCOLA E O CLUBE SÃO PONTOS DE DOAÇÕES. RAUL SAIU DE CASA FOI A ESCOLA DOAR ARROZ, DA ESCOLA FOI AO CLUBE DOAR FEIJÃO E DEPOIS DO CLUBE ELE RETORNOU PARA CASA. **QUANTOS METROS RAUL PERCORREU?**

